













**МП.1.1. Международные (только для морских прибрежных вод до 20 миль от берега) и нормативные правовые акты Российской Федерации, регулирующие безопасность мореплавания**

№	Вопрос	Иллюстрация	Варианты ответа (правильный выделен)
МП.1.1.1	<p>Что означает сигнал - горизонтальное движение флагом - отмашкой, подаваемый с патрульного судна ГИМС?</p>		<ul style="list-style-type: none"> <li>• "Подойдите к моему борту"</li> <li>• "Прошу лечь на обратный курс"</li> <li>• "Проходите по борту со стороны отмашки"</li> <li>• "Прошу остановить судно"</li> </ul>
МП.1.1.2	<p>Какое движение флага-отмашки днем означает сигнал "Прошу остановиться"?</p>		<ul style="list-style-type: none"> <li>• Вертикальное</li> <li>• Вращательное</li> <li>• Любое</li> <li>• Горизонтальное</li> </ul>
МП.1.1.3	<p>При какой мощности подвесного лодочного мотора (двигателя) маломерное судно массой более 200 кг подлежит государственной регистрации?</p>		<ul style="list-style-type: none"> <li>• Более 3,68 кВт</li> <li>• Более 5 кВт</li> <li>• Более 8 кВт</li> <li>• Более 10 кВт</li> </ul>




<p>МП.1.1.4</p>	<p>В каком из перечисленных случаев государственный инспектор по маломерным судам имеет право использовать суда, принадлежащие гражданам?</p>		<ul style="list-style-type: none"> <li>• Для следования к месту работы</li> <li>• Для транспортировки судна нарушителя</li> <li>• Для доставки нарушителей на медицинское обследование</li> <li>• Для доставки в лечебные учреждения пострадавших людей</li> </ul>
<p>МП.1.1.5</p>	<p>В течение какого срока собственник маломерного судна обязан сообщить в орган государственной регистрации судна о любом изменении сведений, внесенных в судовую книгу?</p>		<ul style="list-style-type: none"> <li>• В течение недели</li> <li>• В течение месяца</li> <li>• В течение трех недель</li> <li>• В течение двух недель</li> </ul>
<p>МП.1.1.6</p>	<p>Какова периодичность проведения очередного освидетельствования маломерного судна?</p>		<ul style="list-style-type: none"> <li>• Один раз в 5 лет</li> <li>• Один раз в 2 года</li> <li>• Один раз в 3 года</li> <li>• Ежегодно</li> </ul>

<p>МП.1.1.7</p>	<p>Какие первоначальные действия должен осуществлять инспектор по маломерным судам при подходе к остановленному судну?</p>		<ul style="list-style-type: none"> <li>• Представиться судоводителю и объявить причину остановки судна</li> <li>• Представиться судоводителю и информировать его о правах и обязанностях</li> <li>• Представиться судоводителю и потребовать от него судовые и судоводительские документы</li> <li>• Представиться судоводителю, предъявить служебное удостоверение, потребовать у судоводителя удостоверение на право управления, судовой билет и объявить причину остановки судна</li> </ul>
<p>МП.1.1.8</p>	<p>Через сколько дней заявитель, показавший неудовлетворительный результат при проверке теоретических знаний при аттестации на право управления маломерным судном, может быть повторно допущен к проверке теоретических знаний?</p>		<ul style="list-style-type: none"> <li>• Такой срок не установлен</li> <li>• Через 3 дня</li> <li>• Через 5 дней</li> <li>• Через 7 дней</li> </ul>
<p>МП.1.1.9</p>	<p>Какой документ, выдаваемый собственнику маломерного судна, подтверждает право плавания под Государственным флагом Российской Федерации?</p>		<ul style="list-style-type: none"> <li>• Удостоверение на право управления маломерными судами</li> <li>• Технический талон</li> <li>• Акт технического освидетельствования</li> <li>• Судовой билет</li> </ul>

<p>МП.1.1.10</p>	<p>В присутствии какого лица осуществляется доступ судоводителя (судовладельца) к маломерному судну, задержанному и находящемуся на специализированной стоянке?</p>		<ul style="list-style-type: none"> <li>• Государственного инспектора по маломерным судам</li> <li>• Представителя милиции</li> <li>• Представителя прокуратуры</li> <li>• Лица, ответственного за хранение судна</li> </ul>
<p>МП.1.1.11</p>	<p>Сколько метров составляет ширина береговой полосы водных объектов общего пользования?</p>		<ul style="list-style-type: none"> <li>• 10 м</li> <li>• 30 м</li> <li>• 50 м</li> <li>• 20 м</li> </ul>
<p>МП.1.1.12</p>	<p>На какие органы (организации) Водным кодексом РФ возложены обязанности об информировании жителей в случае введения запрета (ограничения) на использование маломерных судов на водных объектах общего пользования?</p>		<ul style="list-style-type: none"> <li>• На ВОСВОД</li> <li>• На инспекторские подразделения</li> <li>• ГИМС</li> <li>• На территориальные органы МЧС России</li> <li>• На органы местного самоуправления</li> </ul>




<p>МП.1.1.13</p>	<p>Что является Государственной границей Российской Федерации на море?</p>		<ul style="list-style-type: none"> <li>• Внешняя граница прилегающей зоны Российской Федерации</li> <li>• Внешняя граница внутренних морских вод Российской Федерации</li> <li>• Внешняя граница исключительной экономической зоны Российской Федерации</li> <li>• Внешняя граница территориального моря Российской Федерации</li> </ul>
<p>МП.1.1.14</p>	<p>Может ли судно сменить свой флаг во время плавания или стоянки при заходе в порт?</p>		<ul style="list-style-type: none"> <li>• Не может ни при каких обстоятельствах</li> <li>• Может, если плавает в водах другого государства</li> <li>• Может после прибытия на борт портовых властей другого государства</li> <li>• Может в случае, если оно в установленном порядке исключено из судового реестра одного государства и зарегистрировано в судовом реестре другого государства</li> </ul>
<p>МП.1.1.15</p>	<p>С какого момента приобретенное (построенное) маломерное судно приобретает право плавания под Государственным флагом Российской Федерации?</p>		<ul style="list-style-type: none"> <li>• С окончанием постройки</li> <li>• С выходом за пределы территориального моря</li> <li>• После прохождения первичного технического освидетельствования</li> <li>• После государственной регистрации</li> </ul>




<p>МП.1.1.16</p>	<p>Кто принимает решение об установлении запретных для плавания районов в пределах территориального моря, в которых полностью запрещается или временно ограничивается плавание, и где об этом объявляется?</p>		<ul style="list-style-type: none"> <li>• Министерство обороны РФ; объявляется в Морском сборнике.</li> <li>• Министерство обороны РФ; объявляется в секретных документах.</li> <li>• Правительство РФ; объявляется в Собрании законодательства РФ.</li> <li>• Правительство РФ; объявляется в Извещениях мореплавателям.</li> </ul>
<p>МП.1.1.17</p>	<p>Кто принимает решение об установлении временно опасных для плавания районов в пределах территориального моря, в которых полностью запрещается или временно ограничивается плавание (постановка на якорь) и где об этом объявляется?</p>		<ul style="list-style-type: none"> <li>• МЧС России; объявляется в Извещениях мореплавателям и НАВИМ.</li> <li>• Министерство обороны РФ; объявляется в Морском сборнике.</li> <li>• Правительство РФ; объявляется в Собрании законодательства РФ.</li> <li>• Министерство обороны РФ; объявляется в Извещениях мореплавателям и НАВИМ.</li> </ul>
<p>МП.1.1.18</p>	<p>Выберите правильное определение понятия «район плавания маломерного судна»</p>		<ul style="list-style-type: none"> <li>• район, по которому произведена предварительная прокладка перехода;</li> <li>• район, в котором фактически находится маломерное судно;</li> <li>• акватория, на которой допускается использование маломерного судна в соответствии с его техническими и конструктивными характеристиками;</li> <li>• акватория, в которой осуществляют плавание маломерные суда</li> </ul>




<p>МП.1.1.19</p>	<p>Каким международным документом регулируется безопасность судоходства маломерных судов во внутренних морских водах и территориальном море Российской Федерации, в морских прибрежных водах до 20 миль от берега</p>		<ul style="list-style-type: none"> <li>• Международными правилами предупреждения столкновений судов в море;</li> <li>• Международным кодексом по охране судов и портовых средств;</li> <li>• Международной конвенцией по подготовке и дипломированию моряков и несению вахты;</li> <li>• Международной конвенцией по охране человеческой жизни на море.</li> </ul>
<p>МП.1.1.20</p>	<p>Какова длина морской мили?</p>		<ul style="list-style-type: none"> <li>• 1852 м;</li> <li>• 1609 м;</li> <li>• 1000 м;</li> <li>• 5556 м.</li> </ul>
<p>МП.1.1.21</p>	<p>Отметьте, какая единица применяется для измерения скорости морского судна?</p>		<ul style="list-style-type: none"> <li>• м/сек;</li> <li>• км/час;</li> <li>• узел;</li> <li>• кабельтов.</li> </ul>




МП.1.1.22	Отметьте правильное значение термина «кабельтов».	?	<ul style="list-style-type: none"><li>• одна десятая часть морской мили;</li><li>• морской узел;</li><li>• кабель для подачи на судно электроэнергии с берега;</li><li>• элемент парусного вооружения.</li></ul>
МП.1.1.23	Какому из перечисленных судов должно уступить дорогу парусное судно на ходу?	?	<ul style="list-style-type: none"><li>• судну, лишенному возможности управляться;</li><li>• судну с механическим двигателем;</li><li>• гидросамолету;</li><li>• всем перечисленным.</li></ul>
МП.1.1.24	Какому из перечисленных судов должно уступить дорогу парусное судно на ходу?	?	<ul style="list-style-type: none"><li>• судну, лишенному возможности управляться;</li><li>• судну, ограниченному в возможности маневрировать;</li><li>• судну, занятому ловом рыбы;</li><li>• всем перечисленным.</li></ul>









<p>МП.1.1.25</p>	<p>При плавании по системе разделения движения, какое из перечисленных судов может использовать зону прибрежного плавания?</p>		<ul style="list-style-type: none"> <li>• суда длиной менее 20 м;</li> <li>• парусные суда;</li> <li>• суда, занятые ловом рыбы;</li> <li>• все перечисленные.</li> </ul>
<p>МП.1.1.26</p>	<p>Какое из перечисленных судов подпадает под действие термина судно "на ходу"?</p>		<ul style="list-style-type: none"> <li>• судно стоит на якоре</li> <li>• судно отшвартовано к берегу</li> <li>• судно стоит на мели</li> <li>• судно остановилось и не имеет хода относительно воды</li> </ul>
<p>МП.1.1.27</p>	<p>Отметьте правильное определение понятия «маломерное судно»</p>		<ul style="list-style-type: none"> <li>• судно, длина которого не должна превышать 18 метров и общее количество людей на котором не должно превышать 10</li> <li>• судно, длина которого не должна превышать 20 метров и общее количество людей на котором не должно превышать 12</li> <li>• судно, длина которого не должна превышать 24 метра и общее количество людей на котором не должно превышать 12</li> <li>• судно, длина которого не должна превышать 24 метра и общее количество людей на котором не должно превышать 14</li> </ul>




<p>МП.1.1.28</p>	<p>Отметьте правильное определение понятия «маломерное моторное судно»</p>		<ul style="list-style-type: none"> <li>• маломерное судно, использующее в качестве основного средства движения подвесной мотор</li> <li>• маломерное судно, использующее в качестве основного средства стационарный двигатель</li> <li>• маломерное судно, использующее в качестве движителя гребной винт</li> <li>• маломерное судно, использующее в качестве основного средства движения механический двигатель</li> </ul>
<p>МП.1.1.29</p>	<p>Отметьте правильное определение понятия «маломерное парусное судно»</p>		<ul style="list-style-type: none"> <li>• маломерное судно, использующее в качестве основного средства движения силу ветра</li> <li>• маломерное судно, использующее в качестве движителя парус</li> <li>• маломерное судно, оснащенное парусами</li> <li>• маломерное судно, использующее в качестве единственного средства движения парус</li> </ul>
<p>МП.1.1.30</p>	<p>Отметьте правильное определение понятия судоводитель (капитан) маломерного судна</p>		<ul style="list-style-type: none"> <li>• лицо, управляющее маломерным судном</li> <li>• лицо, управляющее маломерным судном и имеющее необходимую для этого квалификацию</li> <li>• лицо, управляющее маломерным судном и являющееся собственником судна</li> <li>• лицо, управляющее маломерным судном по поручению судовладельца</li> </ul>




<p>МП.1.1.31</p>	<p>Отметьте правильное определения понятия «пассажир маломерного судна»</p>		<ul style="list-style-type: none"> <li>• любое лицо на борту маломерного судна</li> <li>• любое лицо на борту маломерного судна, имеющее проездной билет</li> <li>• любое лицо на борту маломерного судна, не являющееся членом экипажа судна</li> <li>• любое лицо на борту маломерного судна, находящееся там с разрешения судоводителя (капитана)</li> </ul>
<p>МП.1.1.32</p>	<p>Отметьте правильное определения понятия «судоходство маломерных судов»</p>		<ul style="list-style-type: none"> <li>• движение маломерных судов по водной акватории</li> <li>• движение маломерных судов по водной акватории, на которой разрешено использование маломерного судна</li> <li>• деятельность, связанная с использованием маломерных судов исключительно для производственных целей</li> <li>• деятельность, связанная с использованием маломерных судов для отдыха, туризма, а также культурных, спортивных, производственных, развлекательных и иных целей</li> </ul>
<p>МП.1.1.33</p>	<p>На какой срок выдается свидетельство о классификации маломерного судна после его постройки и (или) освидетельствования?</p>		<ul style="list-style-type: none"> <li>• на 1 год</li> <li>• на 5 лет</li> <li>• на 10 лет</li> <li>• бессрочно</li> </ul>

<p>МП.1.1.34</p>	<p>Отметьте правильное определение состояния защищённости маломерных судов, находящихся на водных объектах, от аварий и происшествий.</p>		<ul style="list-style-type: none"> <li>• Безопасность судоходства маломерных судов</li> <li>• Безопасность маломерных судов</li> <li>• Безопасность на водных объектах</li> <li>• Безаварийное судоходство</li> </ul>
<p>МП.1.1.35</p>	<p>Что из перечисленного НЕ является основанием прекращения действия права на управление маломерным судном?</p>		<ul style="list-style-type: none"> <li>• истечение установленного срока действия удостоверения на право управления маломерным судном</li> <li>• ухудшение здоровья судоводителя, препятствующее безопасному управлению маломерным судном, подтвержденное медицинским заключением</li> <li>• лишение права на управление маломерным судном</li> <li>• утеря удостоверения на право управления маломерным судном</li> </ul>
<p>МП.1.1.36</p>	<p>Кто из перечисленных лиц обязан обеспечивать безопасность плавания маломерного судна?</p>		<ul style="list-style-type: none"> <li>• судовладелец</li> <li>• судоводитель</li> <li>• капитан</li> <li>• члены экипажа</li> </ul>




<p>МП.1.1.37</p>	<p>В каком случае необходимо оформление судовой роли на маломерном судне, не укомплектованном штатным экипажем?</p>		<ul style="list-style-type: none"> <li>• Перед освидетельствованием судна</li> <li>• Перед каждым выходом с базы стоянки</li> <li>• Перед выходом в заграничное плавание</li> <li>• Во всех перечисленных случаях</li> </ul>
<p><b>Вопрос</b></p>		<p><b>Иллюстрация</b></p>	<p>Варианты ответа (правильный выделен)</p>
<p>МП.1.1.38</p>	<p>Какой из изображенных на иллюстрации сигналов не является сигналом бедствия?</p>		<ul style="list-style-type: none"> <li>• а)</li> <li>• б)</li> <li>• г)</li> <li>• в)</li> </ul>
<p>МП.1.1.39</p>	<p>Какое судно несет огни, изображенные на иллюстрации?</p>		<ul style="list-style-type: none"> <li>• Парусное судно на якоре</li> <li>• Судно, лишенное возможности маневрировать</li> <li>• Судно с механическим двигателем, длиной менее 7 м. Стоит на якоре.</li> <li>• Судно с механическим двигателем, длиной менее 12 м. Идет на нас.</li> </ul>




<p>МП.1.1.40</p>	<p>Какое судно несет огни, изображенные на иллюстрации?</p>		<ul style="list-style-type: none"> <li>• Судно с механическим двигателем длиной менее 50 м на ходу. Виден правый борт</li> <li>• Судно с механическим двигателем длиной более 50 м на ходу. Виден правый борт</li> <li>• Судно с механическим двигателем длиной менее 50 м на ходу. Виден левый борт</li> <li>• Любое из перечисленных судов</li> </ul>
<p>МП.1.1.41</p>	<p>Какое судно несет огни, изображенные на иллюстрации?</p>		<ul style="list-style-type: none"> <li>• Парусное судно</li> <li>• Судно, занятое работами по устранению минной опасности, хода относительно воды не имеет</li> <li>• Судно, занятое ловом рыбы, за исключением судов занятых тралением. Хода относительно воды не имеет</li> <li>• Рыболовное судно длиной менее 50м, не имеющее хода относительно воды, занятое тралением.</li> </ul>
<p>МП.1.1.42</p>	<p>Какое судно несет огни, изображенные на иллюстрации?</p>		<ul style="list-style-type: none"> <li>• Судно, лишенное возможности управляться. Идет на нас</li> <li>• Судно, лишенное возможности маневрировать. Идет на нас</li> <li>• Рыболовное судно с тралом. Идет на нас</li> <li>• Судно, занятое ловом рыбы, за исключением судов занятых тралением. Идет на нас</li> </ul>




<p>МП.1.1.43</p>	<p>Какое судно несет огни, изображенные на иллюстрации?</p>		<ul style="list-style-type: none"> <li>• Судно, производящее лов рыбы кошельковым неводом</li> <li>• Судно, лишенное возможности управляться. Хода относительно воды не имеет</li> <li>• Рыболовное судно длиной менее 50 м. Хода относительно воды не имеет</li> <li>• Судно, ограниченное в возможности маневрировать. Хода относительно воды не имеет</li> </ul>
<p>МП.1.1.44</p>	<p>Что обозначает изображенный на иллюстрации плавучий навигационный знак?</p>		<ul style="list-style-type: none"> <li>• Чистой воды</li> <li>• Специального назначения</li> <li>• Осевой</li> <li>• Ограждающий отдельную опасность малых размеров</li> </ul>
<p>МП.1.1.45</p>	<p>Что обозначает изображенный на иллюстрации плавучий навигационный знак?</p>		<ul style="list-style-type: none"> <li>• Левую сторону фарватера</li> <li>• Ось фарватера</li> <li>• Основной фарватер справа</li> <li>• Правую сторону фарватера</li> </ul>




<p>МП.1.1.46</p>	<p>Что обозначает изображенный на иллюстрации плавучий навигационный знак?</p>		<ul style="list-style-type: none"> <li>• Ограждающий отдельную опасность</li> <li>• Чистой воды</li> <li>• Осевой</li> <li>• Специального назначения</li> </ul>
<p>МП.1.1.47</p>	<p>Что обозначает изображенный на иллюстрации плавучий навигационный знак?</p>		<ul style="list-style-type: none"> <li>• Правой стороны</li> <li>• Осевой</li> <li>• Основной фарватер слева</li> <li>• Основной фарватер справа</li> </ul>
<p>МП.1.1.48</p>	<p>Что обозначает изображенный на иллюстрации плавучий навигационный знак?</p>		<ul style="list-style-type: none"> <li>•левой стороны</li> <li>• Специального назначения</li> <li>• Правой стороны</li> <li>• Осевой</li> </ul>



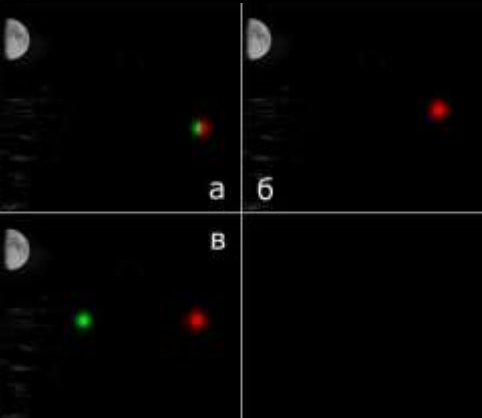





<p>МП.1.1.49</p>	<p>Что обозначает изображенный на иллюстрации плавучий навигационный знак?</p>		<ul style="list-style-type: none"> <li>• Чистой воды</li> <li>• Правой стороны</li> <li>• Основной фарватер справа</li> <li>•левой стороны</li> </ul>
<p>МП.1.1.50</p>	<p>Что обозначает изображенный на иллюстрации плавучий навигационный знак?</p>		<ul style="list-style-type: none"> <li>• Опасности</li> <li>• Осевой</li> <li>• Основной фарватер слева</li> <li>• Основной фарватер справа</li> </ul>
<p>МП.1.1.51</p>	<p>Какое судно несет огни, изображенные на иллюстрации?</p>		<ul style="list-style-type: none"> <li>• На воздушной подушке</li> <li>• Лоцманское</li> <li>• Рыболовное</li> <li>• Парусное</li> </ul>




<p>МП.1.1.52</p>	<p>Какими работами занято изображенное на иллюстрации судно?</p>		<ul style="list-style-type: none"> <li>• Водолазными</li> <li>• Ловом рыбы</li> <li>• Буксировкой</li> <li>• Дноуглубительными</li> </ul>
<p>МП.1.1.53</p>	<p>Какое из изображенных на иллюстрации судов следует от нас?</p>		<ul style="list-style-type: none"> <li>• а) и в)</li> <li>• б) и в)</li> <li>• в)</li> <li>• а) и б)</li> </ul>
<p>МП.1.1.54</p>	<p>Какое судно несет изображенные на иллюстрации знаки?</p>		<ul style="list-style-type: none"> <li>• Судно, занятое ловом рыбы тралением</li> <li>• Судно, лишенное возможности управляться</li> <li>• Судно, занятое дноуглубительными работами</li> <li>• Судно, занятое работой по устранению минной опасности</li> </ul>




<p>МП.1.1.55</p>	<p>Какое судно несет изображенные на иллюстрации знаки?</p>		<ul style="list-style-type: none"> <li>• Лишенное возможности маневрировать</li> <li>• Стоящее на мели</li> <li>• Стоящее на якоре</li> <li>• Лишенное возможности управляться</li> </ul>
<p>МП.1.1.56</p>	<p>Какое судно несет изображенные на иллюстрации знаки?</p>		<ul style="list-style-type: none"> <li>• Судно на якоре</li> <li>• Судно, занятое ловом рыбы</li> <li>• Судно, лишенное возможности управляться</li> <li>• Судно на мели</li> </ul>
<p>МП.1.1.57</p>	<p>Какое судно несет изображенный на иллюстрации знак?</p>		<ul style="list-style-type: none"> <li>• Буксирное, при длине менее 200 м</li> <li>• Буксирное, при длине буксира более 200 м</li> <li>• Рыболовное, длиной менее 20 м</li> <li>• Рыболовное, занятое ловом рыбы</li> </ul>

<p>МП.1.1.58</p>	<p>Какое судно несет изображенный на иллюстрации знак?</p>		<ul style="list-style-type: none"> <li>• Рыболовное судно длиной более 50 м, занятое тралением</li> <li>• Рыболовное судно длиной менее 50 м, занятое тралением</li> <li>• Рыболовное судно, занятое ловом рыбы кошельковыми неводами</li> <li>• Любое из перечисленных рыболовных судов</li> </ul>
<p>МП.1.1.59</p>	<p>Какое судно несет изображенный на иллюстрации знак?</p>		<ul style="list-style-type: none"> <li>• Судно на мели</li> <li>• Судно, лишенное возможности маневрировать</li> <li>• Рыболовное судно</li> <li>• Судно на якорю</li> </ul>
<p>МП.1.1.60</p>	<p>Какое судно несет изображенный на иллюстрации знак?</p>		<ul style="list-style-type: none"> <li>• Парусное судно</li> <li>• Буксир</li> <li>• Рыболовное</li> <li>• Судно, идущее под парусом и одновременно приводимое в движение механической установкой</li> </ul>




<p>МП.1.1.61</p>	<p>Какое судно несет огни, изображенные на иллюстрации?</p>		<ul style="list-style-type: none"> <li>• Занятое ловом рыбы, с помощью сетей. Виден правый борт</li> <li>• Занятое ловом рыбы кошельковым способом. Виден левый борт</li> <li>• Занятое тралением мин. Виден правый борт</li> <li>• Занятое ловом рыбы с использованием трала. Виден правый борт</li> </ul>
<p>МП.1.1.62</p>	<p>Какое судно несет огни, изображенные на иллюстрации?</p>		<ul style="list-style-type: none"> <li>• Занятое ловом рыбы. Идет от нас</li> <li>• Занятое водолазными работами. Идет на нас</li> <li>• Занятое дноуглубительными работами. Идет на нас</li> <li>• Занятое работами по устранению минной опасности. Идет от нас</li> </ul>
<p>МП.1.1.63</p>	<p>Какое из судов, изображенных на иллюстрации, идет на веслах?</p>		<ul style="list-style-type: none"> <li>• а)</li> <li>• б)</li> <li>• в)</li> <li>• Любое</li> </ul>




<p>МП.1.1.64</p>	<p>В какой стороне необходимо оставить изображенный на иллюстрации плавучий навигационный знак?</p>		<ul style="list-style-type: none"> <li>• к S</li> <li>• к N</li> <li>• к W</li> <li>• к E</li> </ul>
<p>МП.1.1.65</p>	<p>В какой стороне необходимо оставить изображенный на иллюстрации плавучий навигационный знак?</p>		<ul style="list-style-type: none"> <li>• к E</li> <li>• к N</li> <li>• к W</li> <li>• к S</li> </ul>
<p>МП.1.1.66</p>	<p>В какой стороне необходимо оставить изображенный на иллюстрации плавучий навигационный знак?</p>		<ul style="list-style-type: none"> <li>• к E</li> <li>• к N</li> <li>• к S</li> <li>• к W</li> </ul>

<p>МП.1.1.67</p>	<p>С какой стороны необходимо оставить изображенный на иллюстрации плавучий навигационный знак?</p>		<ul style="list-style-type: none"> <li>• к N</li> <li>• к S</li> <li>• к W</li> <li>• с любой</li> </ul>
<p>МП.1.1.68</p>	<p>На каком судне выставляется изображенный на иллюстрации сигнал?</p>		<ul style="list-style-type: none"> <li>• На рыболовном</li> <li>• На стоящем на якоре</li> <li>• На лишенном возможности управляться</li> <li>• На терпящем бедствие</li> </ul>
<p>МП.1.1.69</p>	<p>На каком судне выставляются изображенные на иллюстрации знаки?</p>		<ul style="list-style-type: none"> <li>• На рыболовном судне</li> <li>• На судне, стоящем на якоре</li> <li>• На судне, лишенном возможности управляться</li> <li>• На судне, ограниченном в возможности маневрировать</li> </ul>




<p>МП.1.1.70</p>	<p>В какой стороне необходимо оставить изображенный на иллюстрации плавучий навигационный знак?</p>		<ul style="list-style-type: none"> <li>• к N</li> <li>• к S</li> <li>• к W</li> <li>• к E</li> </ul>
<p>МП.1.1.71</p>	<p>В какой стороне необходимо оставить изображенный на иллюстрации плавучий навигационный знак?</p>		<ul style="list-style-type: none"> <li>• к N</li> <li>• к S</li> <li>• к W</li> <li>• к E</li> </ul>
<p>МП.1.1.72</p>	<p>В каком генеральном направлении следует указанное маломерное судно?</p>		<ul style="list-style-type: none"> <li>• В море</li> <li>• Из порта</li> <li>• Из устья реки</li> <li>• С моря</li> </ul>



<p>МП.1.1.73</p>	<p>С какой стороны необходимо пройти мимо изображенного на иллюстрации плавучего навигационного знака?</p>		<ul style="list-style-type: none"> <li>• с E</li> <li>• с N</li> <li>• с W</li> <li>• с S</li> </ul>
<p>МП.1.1.74</p>	<p>С какой стороны необходимо пройти мимо изображенного на иллюстрации плавучего навигационного знака?</p>		<ul style="list-style-type: none"> <li>• с E</li> <li>• с N</li> <li>• с W</li> <li>• с S</li> </ul>
<p>МП.1.1.75</p>	<p>С какой стороны необходимо пройти мимо изображенного на иллюстрации плавучего навигационного знака?</p>		<ul style="list-style-type: none"> <li>• с E</li> <li>• с N</li> <li>• с W</li> <li>• с S</li> </ul>




<p>МП.1.1.76</p>	<p>В каком генеральном направлении следует изображенное на иллюстрации маломерное судно?</p>		<ul style="list-style-type: none"> <li>• В порт</li> <li>• В устье реки</li> <li>• Из порта</li> <li>• В сторону моря</li> </ul>
<p>МП.1.1.77</p>	<p>Что обозначает изображенный на иллюстрации сигнал?</p>		<ul style="list-style-type: none"> <li>• Я делаю поворот вправо</li> <li>• Человек за бортом</li> <li>• Остановите свое судно</li> <li>• Сигнал бедствия</li> </ul>
<p>МП.1.1.78</p>	<p>Что означает изображенный на иллюстрации сигнал, поднимаемый на судне днем?</p>		<ul style="list-style-type: none"> <li>• Судно ловит рыбу</li> <li>• Судно снимается с якоря</li> <li>• Судно становится на якорь</li> <li>• Сигнал бедствия</li> </ul>





<p>МП.1.1.79</p>	<p>Какое из судов, изображенных на иллюстрации, является парусным?</p>		<ul style="list-style-type: none"> <li>• а)</li> <li>• б)</li> <li>• в)</li> <li>• г)</li> </ul>
<p>МП.1.1.80</p>	<p>Какое судно несет огни, изображенные на иллюстрации?</p>		<ul style="list-style-type: none"> <li>• Судно на ходу. Виден правый борт</li> <li>• Судно на ходу. Виден левый борт</li> <li>• Судно на ходу. Видна корма</li> <li>• Судно, лишенное возможности управляться и не имеющее хода относительно воды</li> </ul>
<p>МП.1.1.81</p>	<p>Какое из судов, изображенных на иллюстрации, является лоцманским?</p>		<ul style="list-style-type: none"> <li>• а)</li> <li>• б)</li> <li>• Ни одно из изображенных</li> <li>• в)</li> </ul>

<p>МП.1.1.82</p>	<p>Какое судно несет огни, изображенные на иллюстрации?</p>		<ul style="list-style-type: none"> <li>• Парусное судно, идущее под мотором, длиной менее 12 м</li> <li>• Парусное судно длиной менее 50 м</li> <li>• Лоцманское судно</li> <li>• Судно, занятое ловом рыбы</li> </ul>
<p>МП.1.1.83</p>	<p>В какой стороне относительно изображенного на иллюстрации плавучего навигационного знака находится основной фарватер?</p>		<ul style="list-style-type: none"> <li>• к N</li> <li>• к S</li> <li>• Справа</li> <li>• Слева</li> </ul>
<p>МП.1.1.85</p>	<p>Какое из судов, изображенных на иллюстрации, занято дноуглубительными работами?</p>		<ul style="list-style-type: none"> <li>• а)</li> <li>• б)</li> <li>• в)</li> <li>• Ни одно из изображенных</li> </ul>

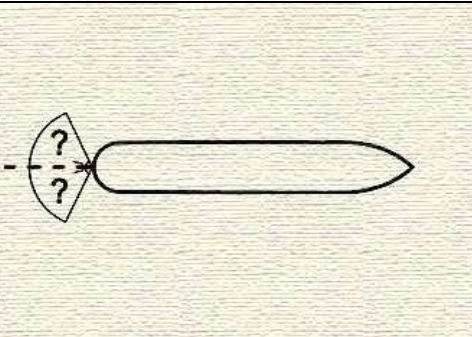



<p>МП.1.1.86</p>	<p>На какой иллюстрации изображено судно на воздушной подушке, длиной менее 50 м, которое идет на нас?</p>		<ul style="list-style-type: none"> <li>• а)</li> <li>• в)</li> <li>• г)</li> <li>• б)</li> </ul>
<p>МП.1.1.87</p>	<p>На какой иллюстрации изображен левый борт судна с механическим двигателем, длиной менее 50 м, на ходу?</p>		<ul style="list-style-type: none"> <li>• а) и б)</li> <li>• а) и в)</li> <li>• в)</li> <li>• а)</li> </ul>
<p>МП.1.1.88</p>	<p>При какой длине буксира выставляется изображенное на иллюстрации знак на судне с механическим двигателем, занятом буксировкой?</p>		<ul style="list-style-type: none"> <li>• Менее 100 м</li> <li>• Менее 200 м</li> <li>• Более 100 м</li> <li>• Более 200 м</li> </ul>



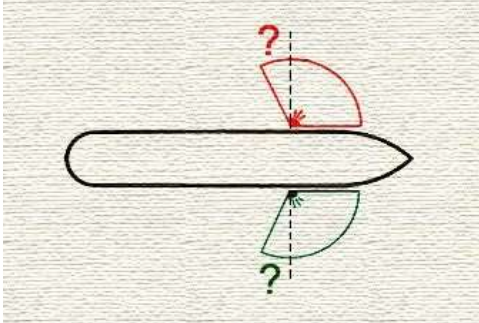

<p>МП.1.1.89</p>	<p>Что означает флаг, изображенный на иллюстрации?</p>		<ul style="list-style-type: none"> <li>• «Вы идете к опасности»</li> <li>• «Человек за бортом»</li> <li>• «Я хочу установить с Вами связь»</li> <li>• «Остановите немедленно свое судно»</li> </ul>
<p>МП.1.1.90</p>	<p>Что означает флаг, изображенный на иллюстрации?</p>		<ul style="list-style-type: none"> <li>• «Вы идете к опасности»</li> <li>• «Человек за бортом»</li> <li>• «Я хочу установить с Вами связь»</li> <li>• «Остановите немедленно свое судно»</li> </ul>
<p>МП.1.1.91</p>	<p>Что означает флаг, изображенный на иллюстрации?</p>		<ul style="list-style-type: none"> <li>• «Вы идете к опасности»</li> <li>• «Человек за бортом»</li> <li>• «Я хочу установить с Вами связь»</li> <li>• «Остановите немедленно свое судно»</li> </ul>

<p>МП.1.1.92</p>	<p>Что означает флаг, изображенный на иллюстрации?</p>		<ul style="list-style-type: none"> <li>• «Вы идете к опасности»</li> <li>• «Человек за бортом»</li> <li>• «Я хочу установить с Вами связь»</li> <li>• «Остановите немедленно свое судно»</li> </ul>
<p>МП.1.1.93</p>	<p>Какое должностное лицо в морском порту отвечает за безопасность мореплавания в порту и на подходах к нему?</p>		<ul style="list-style-type: none"> <li>• Стивидор</li> <li>• Диспетчер</li> <li>• Лоцман</li> <li>• Капитан порта</li> </ul>
<p>МП.1.1.94</p>	<p>Огни какого судна наблюдаются на иллюстрации?</p>		<ul style="list-style-type: none"> <li>• Буксировка в кильватер, длина буксирующего судна менее 50м, длина буксира менее 200м</li> <li>• Буксировка в кильватер, длина буксирующего судна более 50м, длина буксира менее 200м</li> <li>• Буксировка в кильватер, длина буксирующего судна более 50м, длина буксира более 200м</li> <li>• Буксировка в кильватер, длина буксирующего судна менее 50м, длина буксира более 200м</li> </ul>




<p>МП.1.1.95</p>	<p>Какое судно считается, согласно МППСС-72, обгоняющим?</p>		<ul style="list-style-type: none"> <li>• Которое подходит с курсового угла 90° и более</li> <li>• Которое подходит с направления два с половиной румба позади траверза</li> <li>• Которое подходит с курсового угла более 112,5°</li> <li>• Любое судно, которое имеет скорость больше скорости нашего судна</li> </ul>
<p>МП.1.1.96</p>	<p>Огни какого судна показаны на иллюстрации</p>		<ul style="list-style-type: none"> <li>• Судно, занятое ловом рыбы тралением на якоре</li> <li>• Судно занятое ловом рыбы тралением на ходу, идет влево</li> <li>• Судно, ограниченное в возможности маневрировать</li> <li>• Судно, занятое ловом рыбы, за исключением судов, занятых тралением, у которого снасти простираются в море по горизонтали более чем на 150 м от судна, идет влево</li> </ul>
<p>МП.1.1.97</p>	<p>Каковы действия судна, когда, находясь в районе ограниченной видимости, оно не может предотвратить чрезмерного сближения с другим судном, находящимся впереди траверза?</p>		<ul style="list-style-type: none"> <li>• Отдать якорь</li> <li>• Подать не менее пяти коротких и частых звуков свистком для привлечения внимания другого судна</li> <li>• Уменьшить ход до минимального, достаточного для удержания судна на курсе</li> <li>• Сообщить о своих действиях на канале вызова УКВ-связи</li> </ul>
<p>МП.1.1.98</p>	<p>В ночное время Вы наблюдаете огни судна с механическим двигателем на ходу, у которого виден также круговой проблесковый желтый огонь. Что это за судно?</p>		<ul style="list-style-type: none"> <li>• Экраноплан</li> <li>• Гидросамолет</li> <li>• Судно на подводных крыльях, находящееся в неводоизмещающем состоянии</li> <li>• Судно на воздушной подушке, находящееся в неводоизмещающем состоянии</li> </ul>










<p>МП.1.1.99</p>	<p>Кормовой огонь судна установлен таким образом, чтобы светить от направления прямо по корме до (?) в сторону каждого борта</p>		<ul style="list-style-type: none"> <li>• 22,5°</li> <li>• 112,5°</li> <li>• 67,5°</li> <li>• 62,5°</li> </ul>
<p>МП.1.1.100</p>	<p>Два парусных судна идут разными галсами, опасно сближаясь друг с другом. Какие взаимные обязанности установлены между ними согласно Правил?</p>		<ul style="list-style-type: none"> <li>• Судна, идущее правым галсом должно уступить дорогу другому судну</li> <li>• Оба судна должны предпринять действия для расхождения на безопасном расстоянии</li> <li>• Судно, идущее левым галсом, должно уступить дорогу другому судну</li> <li>• То судно, которое идет более круто к ветру, должно сохранять свой курс и скорость</li> </ul>
<p>МП.1.1.101</p>	<p>Где должно находиться судно во время следования узким проходом или фарватером</p>		<ul style="list-style-type: none"> <li>• Оно должно идти по оси фарватера</li> <li>• Оно должно держаться немного справа от оси фарватера</li> <li>• Оно должно держаться внешней границы фарватера, которая находится с его правого борта</li> <li>• Оно может держаться любой внешней границы фарватера</li> </ul>
<p>МП.1.1.102</p>	<p>Какое утверждение является правильным в отношении подачи звуковых сигналов при нахождении вашего судна вблизи района с ограниченной видимостью</p>		<ul style="list-style-type: none"> <li>• Подавать звуковые сигналы не обязательно</li> <li>• Должны подавать звуковые</li> <li>• сигналы только в ответ на услышанные</li> <li>• Обязаны подавать звуковые сигналы</li> <li>• Можем подавать звуковые сигналы</li> </ul>

<p>МП.1.1.103</p>	<p>Какое значение имеют три шара, расположенные по вертикальной линии?</p>		<ul style="list-style-type: none"> <li>• Судно, стесненное своей осадкой</li> <li>• Судно, занятое дноуглубительными работами</li> <li>• Судно, стоящее на мели</li> <li>• Судно занятое работами по устранению минной опасности</li> </ul>
<p>МП.1.1.104</p>	<p>Какие из перечисленных состояний судна подпадают под термин «НА ХОДУ»?</p>		<ul style="list-style-type: none"> <li>• Судно стоит на бочке</li> <li>• Судно под парусами лежит в дрейфе</li> <li>• Стоит на мели</li> <li>• Судно пришвартовано к дереву, стоящему на берегу</li> </ul>
<p>МП.1.1.105</p>	<p>Бортовой огонь светит от направления прямо по носу и до (?) позади траверза</p>		<ul style="list-style-type: none"> <li>• 67,5°</li> <li>• 35°</li> <li>• 22,5°</li> <li>• 25°</li> </ul>
<p>МП.1.1.106</p>	<p>У обгоняемого судна ночью с обгоняющего могут наблюдаться только ...</p>		<ul style="list-style-type: none"> <li>• Бортовой огонь</li> <li>• Бортовой и топовый огонь</li> <li>• Только кормовой огонь</li> <li>• Бортовой, топовый и кормовой огни</li> </ul>

<p>МП.1.1.107</p>	<p>Каковы ваши действия в ответ на один продолжительный звуковой сигнал, который слышен из-за крутого изгиба фарватера?</p>		<ul style="list-style-type: none"> <li>• Выйти на связь по УКВ-станции и выяснить, кто и в связи с чем подаёт этот сигнал</li> <li>• Подать для привлечения внимания к себе по меньшей мере пять коротких и частых звуков свистком</li> <li>• Ответить одним продолжительным звуком</li> <li>• Встать на якорь, если позволяют обстоятельства</li> </ul>
<p>МП.1.1.108</p>	<p>Огни какого судна показаны на иллюстрации?</p>		<ul style="list-style-type: none"> <li>• Судно с механическим двигателем длиной более 100 м толкает впереди другое судно, идет вправо</li> <li>• Судно с механическим двигателем длиной 75 м толкает впереди другое жестко сочлененное судно. Общая длина состава 150 м. Идет вправо</li> <li>• Судно с механическим двигателем длиной 90 м толкает вперед другое жестко сочлененное судно, идет вправо.</li> <li>• Общая длина состава 100 м</li> <li>• Судно с механическим двигателем длиной менее 50 м толкает впереди другое судно, идет вправо</li> </ul>
<p>МП.1.1.109</p>	<p>Каковы обязанности судна, которое, согласно МППСС, не должно затруднять движение или безопасный проход другого судна</p>		<ul style="list-style-type: none"> <li>• Должно, когда этого требуют обстоятельства, заблаговременно выйти на связь УКВ</li> <li>• Должно, когда этого требуют обстоятельства, предпринимать заблаговременные действия с тем, чтобы оставить достаточное водное пространство для прохода другого судна</li> <li>• Должно, когда этого требуют обстоятельства, в последний момент уступить дорогу другому судну</li> <li>• Должно, когда этого требуют обстоятельства, усилить наблюдение за действиями другого судна</li> </ul>

<p>МП.1.1.110</p>	<p>Два парусных судна идут одним и тем же галсом, опасно сближаясь друг с другом. Какие взаимные обязанности установлены между ними согласно Правил?</p>		<ul style="list-style-type: none"> <li>• Судно, находящееся под ветром, уступает дорогу судну, находящемуся на ветре</li> <li>• То судно, которое идет более круто к ветру, должно сохранять свой курс и скорость</li> <li>• Оба судна должны предпринять действия для расхождения на безопасном расстоянии</li> <li>• Судно, находящееся на ветре, уступает дорогу судну, находящемуся под ветром</li> </ul>
<p>МП.1.1.111</p>	<p>Судно с механическим двигателем длиной менее 7 м, имеющее максимальную скорость не более 7 узлов</p>		<ul style="list-style-type: none"> <li>• Должно выставлять белый круговой огонь вместо огней топового, бортовых и кормового</li> <li>• Может выставлять белый круговой огонь вместо огней топового и кормового, и должно, если это практически возможно, выставлять также бортовые огни</li> <li>• Должно выставлять только бортовые огни</li> <li>• Должно иметь наготове электрический фонарик, который заблаговременно выставляется для предупреждения столкновения</li> </ul>
<p>МП.1.1.112</p>	<p>Огонь какого судна наблюдаются на иллюстрации</p>		<ul style="list-style-type: none"> <li>• Судно, стесненное своей осадкой, идет на нас</li> <li>• Судно длиной менее 50 м на мели</li> <li>• Лоцманское судно при исполнении своих обязанностей на якоре</li> <li>• Парусное судно длиной менее 7 м</li> </ul>

<p>МП.1.1.113</p>	<p>Какой из указанных знаков поднимается, когда судно становится на якорь</p>		<ul style="list-style-type: none"> <li>• А</li> <li>• Б</li> <li>• В</li> <li>• Г</li> </ul>
<p>МП.1.1.114</p>	<p>Когда заканчивается обязанность обгоняющего судна по отношению к обгоняемому держаться от него в стороне?</p>		<ul style="list-style-type: none"> <li>• Когда оно оказалось впереди траверза у обгоняемого судна</li> <li>• Когда оно окончательно прошло обгоняемое судно и оставило его позади</li> <li>• Когда расстояние до обгоняемого судна перестало уменьшаться</li> <li>• Когда обгоняемое судно перестало наблюдаться визуально с обгоняющего</li> </ul>
<p>МП.1.1.115</p>	<p>Какое из указанных судов должно подавать звуковые сигналы при ограниченной видимости через промежуток времени не более 2 минут три последовательных звука, а именно - один продолжительный и в след за ним два коротких?</p>		<ul style="list-style-type: none"> <li>• Судно, занятое ловом рыбы</li> <li>• Судно, ограниченное в возможности маневрировать</li> <li>• Парусное судно</li> <li>• Все, указанные в ответах суда</li> </ul>
<p>МП.1.1.116</p>	<p>Бортовой огонь освещает дугу горизонта</p>		<ul style="list-style-type: none"> <li>• 122,5°</li> <li>• 135°</li> <li>• 112,5°</li> <li>• 67,5°</li> </ul>

<p>МП.1.1.117</p>	<p>Опасность столкновения считается существующей, если</p>		<ul style="list-style-type: none"> <li>• Пеленг и дистанция на наблюдаемое судно не меняются</li> <li>• Пеленг приближающегося судна заметно не меняется</li> <li>• Пеленг приближающегося судна изменятся в сторону носа</li> <li>• Пеленг приближающегося судна изменятся в сторону кормы</li> </ul>
<p>МП.1.1.118</p>	<p>Какое из приведенных ниже утверждений в отношении термина "НА ВИДУ ДРУГ У ДРУГА" соответствует Правилам?</p>		<ul style="list-style-type: none"> <li>• Когда другое судно наблюдается только в бинокль</li> <li>• Когда из-за низко стелющегося тумана видны только мачты другого судна</li> <li>• Когда судно может визуалью наблюдать с другого судна</li> <li>• Все, приведенные утверждения, являются правильными</li> </ul>
<p>МП.1.1.119</p>	<p>Огни какого судна показаны на иллюстрации?</p>		<ul style="list-style-type: none"> <li>• Буксировка в кильватер, длина буксирующего судна более 20м, длина буксира более 200м, идет влево</li> <li>• Буксировка в кильватер, длина буксирующего судна менее 20м, длина буксира менее 200м, идет влево</li> <li>• Буксировка в кильватер, длина буксирующего судна более 100м, длина буксира менее 200м, идет влево</li> <li>• Буксировка в кильватер, длина буксирующего судна более 100м, длина буксира более 200м, идет влево</li> </ul>





МП.1.1.1.120	Кому НЕ уступает дорогу парусное судно?		<ul style="list-style-type: none"> <li>• Судну, занятому ловом рыбы</li> <li>• Судну, лишенному возможности управляться</li> <li>• Судну, ограниченному в возможности маневрировать</li> <li>• Судну с механическим двигателем</li> </ul>
МП.1.1.1.121	Следуя в районе ограниченной видимости или вблизи такого района, парусное судно должно подавать		<ul style="list-style-type: none"> <li>• Один продолжительный и вслед за ним два коротких звуковых сигнала</li> <li>• Два продолжительных звуковых сигнала</li> <li>• Два продолжительных и один короткий звуковой сигнал</li> <li>• Парусному судну нет необходимости подавать такие сигналы</li> </ul>
МП.1.1.1.122	В темное время суток Вы обнаружили огни судна, указанные на иллюстрации?. Какие ограничения в отношении минимального расстояния расхождения с таким судном существуют в МППСС-72		<ul style="list-style-type: none"> <li>• 1852 м</li> <li>• 1000 м</li> <li>• 100 м</li> <li>• 2000 м</li> </ul>





<p>МП.1.1.123</p>	<p>Знаки какого судна указаны на иллюстрации?</p>		<ul style="list-style-type: none"> <li>• Судно, занятое такой буксировкой, которая значительно ограничивает возможности судов, участвующих в такой буксировочной операции, отклониться от своего курса</li> <li>• Судно, стоящее на мели</li> <li>• Судно, оказавшееся в особых обстоятельствах, которые не упоминаются в Правилах</li> <li>• Судно, занятое подводными операциями и ограниченное в возможности маневрировать</li> </ul>
<p>МП.1.1.124</p>	<p>При следовании в системе разделения движения (или при ее пересечении) парусное судно</p>		<ul style="list-style-type: none"> <li>• Не должно затруднять проход судна с механическим двигателем, следующего в полосе движения</li> <li>• Пользуется правом дороги</li> <li>• Не имеет права пересекать систему разделения движения</li> <li>• Системы разделения движения не имеют отношения к парусным судам</li> </ul>
<p>МП.1.1.125</p>	<p>Пересекая курс по носу грузового судна так, как показано на фотографии, маломерное судно</p>		<ul style="list-style-type: none"> <li>• Нарушает правила МППСС</li> <li>• Не нарушает правила МППСС</li> <li>• Не нарушает правила МППСС, если им предварительно было подано пять или более коротких звуковых сигналов</li> </ul>


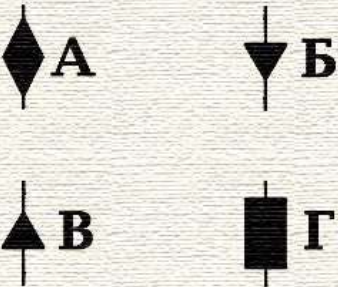



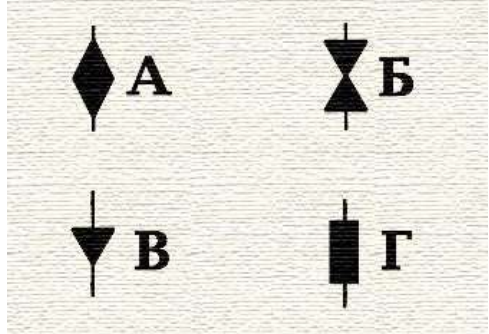

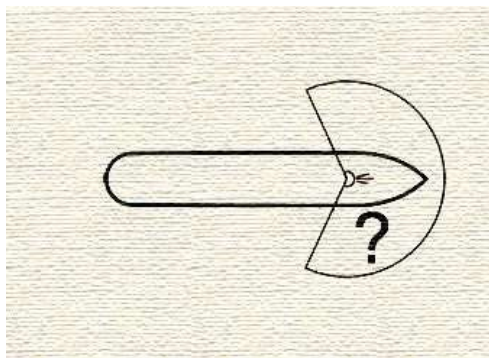
<p>МП.1.1.126</p>	<p>Комбинированный фонарь, в котором выставляются бортовые огни, используют</p>		<ul style="list-style-type: none"> <li>• Судно длиной менее 20 м</li> <li>• Судно с механическим двигателем длиной менее 12 м</li> <li>• Парусное судно длиной менее 20 м</li> <li>• Все суда, указанные в ответах</li> </ul>
<p>МП.1.1.127</p>	<p>Правило, относящееся к обгону, применяется, когда суда находятся</p>		<ul style="list-style-type: none"> <li>• При любых условиях видимости</li> <li>• На виду друг у друга</li> <li>• Только в условиях ограниченной видимости</li> <li>• Только в узкостях</li> </ul>
<p>МП.1.1.128</p>	<p>В открытом море опасно сближаются на пересекающихся курсах парусное судно и судно, занятое ловом рыбы, которое наблюдает парусник со своего правого борта. Каковы взаимные обязанности судов?</p>		<ul style="list-style-type: none"> <li>• Парусное судно должно сохранять свой курс и скорость, т.к. оно наблюдает другое судно слева</li> <li>• Судно, занятое ловом рыбы, должно уступить дорогу парусному судну, т.к. оно наблюдает другое судно справа</li> <li>• Судно, занятое ловом рыбы, должно уступить дорогу парусному судну, т.к. последнее приводится в движение не механической установкой</li> <li>• Парусное судно должно уступить дорогу судну, занятому ловом рыбы</li> </ul>

<p>МП.1.1.129</p>	<p>В каких районах применяются МППСС-72</p>		<ul style="list-style-type: none"> <li>• Только в открытом море</li> <li>• Только в территориальных и внутренних водах, имеющих естественный или искусственный выход в открытое море</li> <li>• В районах, установленных прибрежным государством</li> <li>• В открытых морях и соединенных с ними водах, по которым могут плавать морские суда</li> </ul>
<p>МП.1.1.130</p>	<p>Следуя в тумане Вы обнаружили на иллюстрации? РЛС слева, впереди траверза, эхо-сигнал судна и установили, что развивается ситуация опасного сближения с ним. Какое утверждение является правильным?</p>		<ul style="list-style-type: none"> <li>• Мы должны сохранять свой курс и скорость</li> <li>• Мы должны предпринять действие, чтобы чисто разойтись с этим судном</li> <li>• Другое судно должно сохранять свой курс и скорость</li> <li>• Другое судно должно предпринять действия чтобы уступить нам дорогу, так как мы находимся у него справа</li> </ul>
<p>МП.1.1.131</p>	<p>Следуя в плохую видимость, вы неожиданно услышали туманный сигнал другого судна по-видимому впереди своего траверза. Вы должны</p>		<ul style="list-style-type: none"> <li>• Подать по меньшей мере пять коротких и частых звуков свистком для привлечения внимания другого судна</li> <li>• Уменьшить ход до минимального, достаточного для удержания судна на курсе</li> <li>• Попытаться установить связь с другим судном на канале вызова УКВ-связи</li> <li>• Изменить курс вправо на значительный угол</li> </ul>


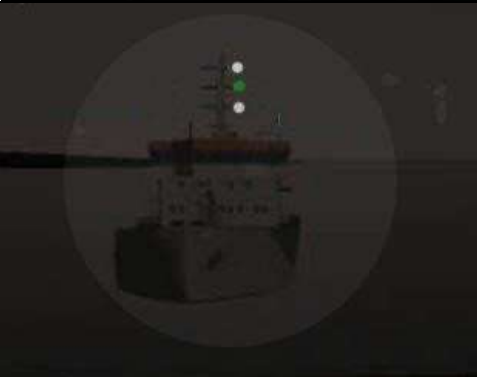

<p>МП.1.1.132</p>	<p>При каком численном значении видимость считается ограниченной</p>		<ul style="list-style-type: none"> <li>• 2 мили</li> <li>• 5 миль</li> <li>• Равная тормозному пути судна</li> <li>• Ни одно из указанных утверждений не присутствует в Правилах</li> </ul>
<p>МП.1.1.133</p>	<p>Какое значение имеют огни, указанные на рисунке</p>		<ul style="list-style-type: none"> <li>• Судно, лишенное возможности управляться, и не имеющее хода относительно воды</li> <li>• Судно, занятое дноуглубительными работами, показывает сторону, на которой существует препятствие</li> <li>• Судно длиной более 20 м, занятое тралением, когда снасть зацепилась за препятствие</li> <li>• Судно, стоящее на мели</li> </ul>
<p>МП.1.1.134</p>	<p>Судно с механическим двигателем длиной менее 12 м</p>		<ul style="list-style-type: none"> <li>• Может вместо огней топового, бортовых и кормового выставлять белый круговой огонь и бортовые огни</li> <li>• Может выставлять один топовый огонь и бортовые огни</li> <li>• Должно выставлять белый круговой огонь и бортовые огни вместо топового и кормового</li> <li>• Может выставлять один белый круговой огонь</li> </ul>
<p>МП.1.1.135</p>	<p>Огни какого судна наблюдаются на иллюстрации?</p>		<ul style="list-style-type: none"> <li>• Судно, занятое ловом рыбы тралом, идет влево</li> <li>• Парусное судно, идет влево</li> <li>• Лоцманское судно, идет влево</li> <li>• Судно, занятое дноуглубительными работами, показывает сторону, по которой проход запрещен</li> </ul>

<p>МП.1.1.136</p>	<p>Какое из приведенных ниже судов подпадает под термин «СУДНО, ОГРАНИЧЕННОЕ В ВОЗМОЖНОСТИ МАНЕВРИРОВАТЬ»</p>		<ul style="list-style-type: none"> <li>• Из-за неисправности перо руля может переключаться только на 7 градусов</li> <li>• Зацепилось рыболовным тралом за грунт</li> <li>• Маневрирует при сдаче лоцмана на лоцманский катер</li> <li>• Из-за штормовых условий не может маневрировать так, как это предписано Правилами</li> </ul>
<p>МП.1.1.137</p>	<p>Огни какого судна показаны на иллюстрации??</p>		<ul style="list-style-type: none"> <li>• Гидросамолет на якоре</li> <li>• Буксируемое судно, идет на нас</li> <li>• Полупогруженный буксируемый объект</li> <li>• Судно, занятое буксировкой, идет от нас</li> </ul>
<p>МП.1.1.138</p>	<p>Какой знак выставляет в дневное время судно с механическим двигателем, занятое буксировкой с кормы, если длина буксира, измеренная от кормы буксирующего судна до кормы буксируемого, превышает 200м</p>		<ul style="list-style-type: none"> <li>• А</li> <li>• Б</li> <li>• В</li> <li>• Г</li> </ul>
<p>МП.1.1.139</p>	<p>Огни какого судна наблюдаются на иллюстрации?</p>		<ul style="list-style-type: none"> <li>• Судно, занятое устранением минной опасности, идет вправо</li> <li>• Судно, лишенное возможности управляться имеет ход относительно воды, идет влево</li> <li>• Судно, занятое ловом рыбы тралом длиной более 50 м на ходу, идет влево</li> <li>• Судно занятое сложной буксировкой, длиной менее 50 м</li> </ul>




<p>МП.1.1.</p>	<p>Судно, которому уступают дорогу в условиях на виду друг у друга ...</p>		<ul style="list-style-type: none"> <li>• Должно сохранять свой курс и скорость</li> <li>• Может предпринять действие для избежания столкновения, когда ему становится очевидно, что другое судно, обязанное уступить дорогу, не предпринимает соответствующего действия</li> <li>• Должно предпринять действия для предотвращения столкновения, если обнаружило, что столкновения нельзя избежать только действиями судна, уступающего дорогу</li> <li>• Все меры, указанные в ответах</li> </ul>
<p>МП.1.1.140</p>	<p>Какой знак в дневное время выставляет судно, идущее под парусом, и, в то же время, приводимое в движение механической установкой</p>		<ul style="list-style-type: none"> <li>• А</li> <li>• Б</li> <li>• В</li> <li>• Г</li> </ul>
<p>МП.1.1.141</p>	<p>При плавании в районе системы разделения движения парусное судно</p>		<ul style="list-style-type: none"> <li>• Может использовать зону прибрежного плавания</li> <li>• Должно следовать в пределах зоны разделения, между потоками движения судов</li> <li>• Должно следовать за пределами системы разделения движения судов</li> <li>• Системы разделения движения не имеют отношения к парусным судам</li> </ul>

<p>МП.1.1.142</p>	<p>Какой из приведенных знаков несет судно, занятое тралением</p>		<ul style="list-style-type: none"> <li>• А</li> <li>• Б</li> <li>• В</li> <li>• Г</li> </ul>
<p>МП.1.1.143</p>	<p>Огни какого судна показаны на иллюстрации?</p>		<ul style="list-style-type: none"> <li>• Судно, занятое ловом рыбы нетраловыми снастями длиной более 150 м на ходу</li> <li>• Лоцманское судно на ходу, остановившееся и не имеющее ход относительно воды</li> <li>• Судно, занятое ловом рыбы нетраловыми снастями не более 150 м на ходу, но не имеющее ход относительно воды</li> <li>• Судно, занятое ловом рыбы тралением длиной менее 50 м на ходу, но не имеющее ход относительно воды</li> </ul>
<p>МП.1.1.144</p>	<p>Какова дуга горизонта, которую освещает топовый огонь судна</p>		<ul style="list-style-type: none"> <li>• Дуга горизонта в <math>122,5^\circ</math> по каждому борту, берущая начало от диаметральной плоскости судна и в направлении в корму</li> <li>• Дуга горизонта в <math>112,5^\circ</math> по каждому борту, берущая начало от диаметральной плоскости судна и в направлении в корму</li> <li>• Дуга горизонта в <math>67,5^\circ</math> по каждому борту, берущая начало от диаметральной плоскости судна и в направлении в корму</li> <li>• Дуга горизонта в <math>135^\circ</math> по каждому борту, берущая начало от диаметральной плоскости судна и в направлении в корму</li> </ul>




<p>МП.1.1.145</p>	<p>В открытом море, ночью, Вы приближаетесь к судну, у которого виден кормовой огонь. Временами открывается его бортовой огонь, при этом кормовой огонь перестает быть виден. Вы должны</p>		<ul style="list-style-type: none"> <li>• Считать, что это ситуация пересечения курсов</li> <li>• Считать, что это обгон</li> <li>• Сманиеврировать так, чтобы создать ситуацию пересечения курсов и действовать соответственно</li> <li>• Сманиеврировать так, чтобы создать ситуацию обгона, и действовать соответственно</li> </ul>
<p>МП.1.1.146</p>	<p>Какое судно не должно выставлять топовые огни, когда оно на ходу и имеет ход относительно воды</p>		<ul style="list-style-type: none"> <li>• Судно, лишенное возможности управляться</li> <li>• Буксируемое судно</li> <li>• Судно, занятое ловом рыбы нетраловыми снастями</li> <li>• Все ответы верные</li> </ul>
<p>МП.1.1.147</p>	<p>Кому уступает дорогу судно с механическим двигателем на ходу?</p>		<ul style="list-style-type: none"> <li>• Парусному судну</li> <li>• Судну, лишенному возможности управляться</li> <li>• Судну, ограниченному в возможности маневрировать</li> <li>• Всем судам, указанным в ответах</li> </ul>




МП.1.1.148	Огни какого судна наблюдаются на иллюстрации?		<ul style="list-style-type: none"> <li>• Судно с механическим двигателем длиной менее 50 м.</li> <li>• идет на нас</li> <li>• Парусное судно длиной более 20 м, идет на нас</li> <li>• Судно занятое ловом рыбы</li> <li>• Парусное судно длиной менее 20 м , идет на нас</li> </ul>
МП.1.1.149	Огни какого судна показаны на иллюстрации?		<ul style="list-style-type: none"> <li>• Судно, занятое устранением минной опасности, идет на нас</li> <li>• Судно, занятое ловом рыбы тралением на ходу, имеет ход относительно воды, идет на нас</li> <li>• Судно, занятое ловом рыбы тралением, на якорю, вид с носа</li> <li>• Судно, занятое ловом рыбы тралением на ходу, но остановившееся и не имеющее ход относительно воды, вид с носа</li> </ul>
	<b>Вопрос</b>	<b>Иллюстрация</b>	Варианты ответа (правильный выделен)
МП.1.1.150	На какой срок задерживается маломерное судно при совершении административного правонарушения?		<ul style="list-style-type: none"> <li>• На срок до рассмотрения дела об административном правонарушении</li> <li>• На срок до составления протокола об административном правонарушении</li> <li>• На срок до вступления постановления по делу об административном правонарушении в законную силу</li> <li>• На срок до устранения причины задержания</li> </ul>






<p>МП.1.1.151</p>	<p>Какой срок отводится Кодексом Российской Федерации об административных правонарушениях для уплаты административного штрафа?</p>		<ul style="list-style-type: none"> <li>• 10 суток</li> <li>• 20 суток</li> <li>• 60 суток</li> <li>• 30 суток</li> </ul>
<p>МП.1.1.152</p>	<p>Какое административное наказание предусматривается за нарушение лицом, управляющим маломерным судном, правил маневрирования?</p>		<ul style="list-style-type: none"> <li>• Административный штраф</li> <li>• Предупреждение</li> <li>• Предупреждение либо административный штраф</li> <li>• Предупреждение, либо административный штраф, либо лишение права управления маломерным судном на срок до шести месяцев</li> </ul>
<p>МП.1.1.153</p>	<p>Какое административное наказание предусмотрено за управление маломерным судном, не зарегистрированным в установленном порядке?</p>		<ul style="list-style-type: none"> <li>• Предупреждение</li> <li>• Предупреждение либо административный штраф</li> <li>• Предупреждение, либо административный штраф, либо лишение права управления маломерным судном</li> <li>• Административный штраф</li> </ul>




<p>МП.1.1.154</p>	<p>Какое административное наказание предусматривается за несоблюдение лицом, управляющим маломерным судном, установленной скорости?</p>		<ul style="list-style-type: none"> <li>• Административный штраф</li> <li>• Предупреждение</li> <li>• Предупреждение либо административный штраф</li> <li>• Предупреждение, либо административный штраф, либо лишение права управления маломерным судном на срок до шести месяцев</li> </ul>
<p>МП.1.1.155</p>	<p>Какое административное наказание предусматривается за управление маломерным судном, судоводителем, не имеющем при себе судового билета?</p>		<ul style="list-style-type: none"> <li>• Предупреждение</li> <li>• Предупреждение либо административный штраф</li> <li>• Предупреждение, либо административный штраф, либо лишение права управления маломерным судном на срок до шести месяцев</li> <li>• Административный штраф</li> </ul>
<p>МП.1.1.156</p>	<p>Какое административное наказание предусмотрено за управление маломерным судном судоводителем или иным лицом, находящимся в состоянии опьянения?</p>		<ul style="list-style-type: none"> <li>• Лишение прав управления маломерным судном</li> <li>• Предупреждение</li> <li>• Штраф</li> <li>• Штраф или лишение прав управления маломерным судном</li> </ul>




<p>МП.1.1.157</p>	<p>Какое административное наказание предусматривается за несоблюдение лицом, управляющим маломерным судном, требований навигационных знаков?</p>		<ul style="list-style-type: none"> <li>• Административный штраф</li> <li>• Лишение права управления маломерным судном на срок до шести месяцев</li> <li>• Предупреждение</li> <li>• Одно из перечисленных</li> </ul>
<p>МП.1.1.158</p>	<p>Какое административное наказание лица, управляющего маломерным судном, предусматривается за преднамеренную остановку или стоянку судна в запрещенных местах?</p>		<ul style="list-style-type: none"> <li>• Административный штраф</li> <li>• Предупреждение</li> <li>• Предупреждение либо административный штраф</li> <li>• Предупреждение, либо административный штраф, либо лишение права управления маломерным судном на срок до шести месяцев</li> </ul>
<p>МП.1.1.159</p>	<p>В течение какого срока гражданин, в отношении которого вынесено административное наказание, имеет право обжаловать постановление по делу об административном правонарушении?</p>		<ul style="list-style-type: none"> <li>• 5 суток</li> <li>• 20 суток</li> <li>• 15 суток</li> <li>• 10 суток</li> </ul>

<p>МП.1.1.160</p>	<p>В течение какого срока собственник маломерного судна обязан сообщить в орган государственной регистрации судна о любом изменении сведений, внесенных в реестр маломерных судов?</p>		<ul style="list-style-type: none"> <li>• В течение недели</li> <li>• В течение месяца</li> <li>• В течение трех недель</li> <li>• В течение двух недель</li> </ul>
<p>МП.1.1.161</p>	<p>Кем выносится постановление о лишении права управления маломерным судном?</p>		<ul style="list-style-type: none"> <li>• Главным государственным инспектором по маломерным судам</li> <li>• Государственным инспектором по маломерным судам</li> <li>• Прокурором</li> <li>• Судьей</li> </ul>
<p>МП.1.1.162</p>	<p>Какое административное наказание предусмотрено за превышение установленной скорости?</p>		<ul style="list-style-type: none"> <li>• Лишение права управления</li> <li>• Предупреждение</li> <li>• Штраф</li> <li>• Предупреждение или штраф, или лишение права управления</li> </ul>

МП.1.1.163	Какое административное наказание предусматривается за нарушение правил маневрирования?		<ul style="list-style-type: none"><li>• Административный штраф</li><li>• Лишение прав управления маломерным судном</li><li>• Предупреждение</li><li>• Одно из перечисленных</li></ul>
МП.1.1.164	Какое административное наказание предусмотрено за управление маломерным судном, не несущим бортовых номеров?		<ul style="list-style-type: none"><li>• Лишение права управления</li><li>• Предупреждение или штраф</li><li>• Предупреждение или штраф, или лишение права управления</li><li>• Штраф</li></ul>
МП.1.1.165	Какое административное наказание предусмотрено за преднамеренную остановку маломерного судна в запрещенном месте?		<ul style="list-style-type: none"><li>• Лишение права управления</li><li>• Предупреждение</li><li>• Штраф</li><li>• Предупреждение или штраф, или лишение права управления</li></ul>




<p>МП.1.1.166</p>	<p>При совершении административного правонарушения, влекущего задержание маломерного судна, оно задерживается на время:</p>		<ul style="list-style-type: none"> <li>• До составления протокола об административном правонарушении</li> <li>• До вынесения постановления по делу об административном правонарушении</li> <li>• До исполнения постановления по делу об административном правонарушении</li> <li>• До устранения причины задержания</li> </ul>
<p>МП.1.1.167</p>	<p>Какое административное наказание предусмотрено за передачу управления маломерным судном лицу, не имеющему на это права?</p>		<ul style="list-style-type: none"> <li>• Лишение права управления</li> <li>• Предупреждение</li> <li>• Предупреждение или штраф</li> <li>• Штраф</li> </ul>
<p>МП.1.1.168</p>	<p>Какое административное наказание предусмотрено за управление маломерным судном с нарушением ограничений по району плавания?</p>		<ul style="list-style-type: none"> <li>• Предупреждение</li> <li>• Предупреждение или штраф, или лишение права управления</li> <li>• Штраф или лишение права управления</li> <li>• Штраф</li> </ul>




<p>МП.1.1.169</p>	<p>Какое административное наказание предусмотрено за несоблюдение лицом, управляющим маломерным судном, установленной скорости?</p>		<ul style="list-style-type: none"> <li>• Административный штраф</li> <li>• Предупреждение</li> <li>• Предупреждение либо административный штраф</li> <li>• Предупреждение, либо административный штраф, либо лишение права управления маломерным судном на срок до шести месяцев</li> </ul>
<p>МП.1.1.170</p>	<p>Какой срок отводится Кодексом Российской Федерации об административных правонарушениях для уплаты административного штрафа?</p>		<ul style="list-style-type: none"> <li>• 10 суток</li> <li>• 20 суток</li> <li>• 40 суток</li> <li>• 60 суток</li> </ul>
<p>МП.1.1.171</p>	<p>Какое административное наказание предусмотрено за управление маломерным судном с нарушением ограничений по условиям плавания?</p>		<ul style="list-style-type: none"> <li>• Лишение права управления</li> <li>• Предупреждение или штраф</li> <li>• Предупреждение или штраф, или лишение права управления</li> <li>• Штраф</li> </ul>

<p>МП.1.1.172</p>	<p>Какое административное наказание предусмотрено за управление маломерным судном, не прошедшим технического освидетельствования?</p>		<ul style="list-style-type: none"> <li>• Лишение права управления</li> <li>• Предупреждение</li> <li>• Предупреждение или штраф, или лишение права управления</li> <li>• Штраф</li> </ul>
<p>МП.1.1.173</p>	<p>Какое административное наказание предусмотрено за преднамеренную остановку или стоянку маломерного судна под судоходным пролетом моста?</p>		<ul style="list-style-type: none"> <li>• Наказание не предусмотрено</li> <li>• Предупреждение или штраф</li> <li>• Штраф</li> <li>• Предупреждение или штраф, или лишение права управления</li> </ul>
<p>МП.1.1.174</p>	<p>Какое административное наказание предусматривается за несоблюдение лицом, управляющим маломерным судном, требований навигационных знаков?</p>		<ul style="list-style-type: none"> <li>• Административный штраф</li> <li>• Лишение права управления маломерным судном</li> <li>• Предупреждение</li> <li>• Одно из вышеперечисленных</li> </ul>



<p>МП.1.1.175</p>	<p>В течение какого времени судоводитель имеет право обжаловать постановление по делу об административном правонарушении со дня получения копии постановления?</p>		<ul style="list-style-type: none"> <li>• Двух недель</li> <li>• Одного месяца</li> <li>• Пяти дней</li> <li>• Десяти дней</li> </ul>
<p>МП.1.1.176</p>	<p>За какое из перечисленных нарушений государственный инспектор по маломерным судам имеет право задержать маломерное судно и поместить его на специализированную стоянку для хранения?</p>		<ul style="list-style-type: none"> <li>• За нарушение правил маневрирования</li> <li>• За превышение установленной скорости</li> <li>• За передачу управления судном лицу, не имеющему права управления</li> <li>• За управление судном в состоянии опьянения</li> </ul>
<p>МП.1.1.</p>	<p>За какое из перечисленных нарушений государственный инспектор по маломерным судам имеет право отстранить судоводителя от управления и поместить маломерное судно на стоянку и хранение?</p>		<ul style="list-style-type: none"> <li>• За нарушение правил погрузки и разгрузки маломерных судов</li> <li>• За управление судном, не прошедшим технического освидетельствования</li> <li>• За нарушение правил обеспечения безопасности пассажиров в пути следования</li> <li>• За управление маломерным судном без удостоверения на право управления, судового билета или его копии, заверенной в установленном порядке</li> </ul>




<p>МП.1.1.177</p>	<p>Какое административное наказание предусмотрено за эксплуатацию маломерного судна, у которого содержание загрязняющих веществ в выбросах превышает установленные государственными стандартами нормативы?</p>		<ul style="list-style-type: none"> <li>• Наказания не предусмотрено</li> <li>• Лишение права управления</li> <li>• Предупреждение или штраф</li> <li>• Штраф</li> </ul>
<p>МП.1.1.178</p>	<p>Какое административное наказание предусмотрено за утерю или утрату судового билета маломерного судна?</p>		<ul style="list-style-type: none"> <li>• Предупреждение</li> <li>• Предупреждение или штраф</li> <li>• Штраф</li> <li>• Наказание не предусмотрено</li> </ul>
<p>МП.1.1.179</p>	<p>Какое административное наказание предусмотрено за преднамеренную остановку или стоянку судна в запрещенных местах?</p>		<ul style="list-style-type: none"> <li>• Административный штраф</li> <li>• Предупреждение</li> <li>• Предупреждение либо административный штраф</li> <li>• Предупреждение, либо административный штраф, либо лишение права управления маломерным судном на срок до шести месяцев</li> </ul>


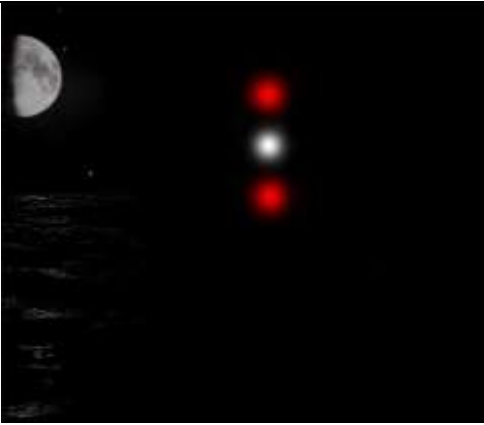

<p>МП.1.1.180</p>	<p>Какое административное наказание предусмотрено за утерю или утрату удостоверения на право управления маломерным судном?</p>		<ul style="list-style-type: none"> <li>• Предупреждение</li> <li>• Предупреждение или штраф</li> <li>• Штраф</li> <li>• Наказание не предусмотрено</li> </ul>
<p>МП.1.1.181</p>	<p>Какое административное наказание предусматривается за управление маломерным судном, не зарегистрированным в установленном порядке?</p>		<ul style="list-style-type: none"> <li>• Предупреждение</li> <li>• Предупреждение либо административный штраф</li> <li>• Предупреждение, либо административный штраф, либо лишение права управления маломерным судном</li> <li>• Административный штраф</li> </ul>
<p>МП.1.1.182</p>	<p>Какое административное наказание предусмотрено за управление судном судоводителем или иным лицом, находящимся в состоянии опьянения?</p>		<ul style="list-style-type: none"> <li>• Лишение права управления маломерным судном</li> <li>• Предупреждение</li> <li>• Штраф</li> <li>• Штраф или лишение прав управления маломерным судном</li> </ul>




МП.1.1.183	<p>Какое административное наказание предусмотрено за передачу управления маломерным судном лицу, не имеющему при себе удостоверения на право управления маломерным судном?</p>		<ul style="list-style-type: none"> <li>• Наказание не предусмотрено</li> <li>• Предупреждение</li> <li>• Штраф</li> <li>• Предупреждение или штраф</li> </ul>
МП.1.1.184	<p>Какое административное наказание предусмотрено за управление маломерным судном судоводителю, не имеющему при себе судового билета маломерного судна или его копии, заверенной в установленном порядке, а равно документов, подтверждающих право владения, пользования или распоряжения управляемым им судном в отсутствие владельца?</p>		<ul style="list-style-type: none"> <li>• Наказание не предусмотрено</li> <li>• Предупреждение</li> <li>• Штраф</li> <li>• Предупреждение или штраф</li> </ul>




### МП.1.2. Правила плавания маломерных судов, включая правила плавания в портах

№	Вопрос	Иллюстрация	Варианты ответа (правильный выделен)
МП.1.2.1	<p>Какой из изображенных на иллюстрации сигналов не является сигналом бедствия?</p>		<ul style="list-style-type: none"> <li>• а)</li> <li>• б)</li> <li>• г)</li> <li>• в)</li> </ul>




<p>МП.1.2.2</p>	<p>Какое судно несет огни, изображенные на иллюстрации?</p>		<ul style="list-style-type: none"> <li>• Парусное судно на якоре</li> <li>• Судно, лишенное возможности маневрировать</li> <li>• Судно с механическим двигателем, длиной менее 7 м. Стоит на якоре.</li> <li>• Судно с механическим двигателем, длиной менее 12 м. Идет на нас.</li> </ul>
<p>МП.1.2.3</p>	<p>Какое судно несет огни, изображенные на иллюстрации?</p>		<ul style="list-style-type: none"> <li>• Судно с механическим двигателем длиной менее 50 м на ходу. Виден правый борт</li> <li>• Судно с механическим двигателем длиной более 50 м на ходу. Виден правый борт</li> <li>• Судно с механическим двигателем длиной менее 50 м на ходу. Виден левый борт</li> <li>• Любое из перечисленных судов</li> </ul>
<p>МП.1.2.4</p>	<p>Какое судно несет огни, изображенные на иллюстрации?</p>		<ul style="list-style-type: none"> <li>• Парусное судно</li> <li>• Судно, занятое работами по устранению минной опасности, хода относительно воды не имеет</li> <li>• Судно, занятое ловом рыбы, за исключением судов занятых тралением.</li> </ul> <p>Хода относительно воды не имеет</p> <ul style="list-style-type: none"> <li>• Рыболовное судно длиной менее 50м, не имеющее хода относительно воды, занятое тралением.</li> </ul>




<p>МП.1.2.5</p>	<p>Какое судно несет огни, изображенные на иллюстрации?</p>		<ul style="list-style-type: none"> <li>• Судно, лишенное возможности управляться. Идет на нас</li> <li>• Судно, лишенное возможности маневрировать. Идет на нас</li> <li>• Рыболовное судно с тралом. Идет на нас</li> <li>• Судно, занятое ловом рыбы, за исключением судов занятых тралением. Идет на нас</li> </ul>
<p>МП.1.2.6</p>	<p>Какое судно несет огни, изображенные на иллюстрации?</p>		<ul style="list-style-type: none"> <li>• Судно, производящее лов рыбы кошельковым неводом</li> <li>• Судно, лишенное возможности управляться. Хо́да относительно воды не имеет</li> <li>• Рыболовное судно длиной менее 50 м. Хо́да относительно воды не имеет</li> <li>• Судно, ограниченное в возможности маневрировать. Хо́да относительно воды не имеет</li> </ul>
<p>МП.1.2.7</p>	<p>Что обозначает изображенный на иллюстрации плавучий навигационный знак?</p>		<ul style="list-style-type: none"> <li>• Чистой воды</li> <li>• Специального назначения</li> <li>• Осевой</li> <li>• Ограждающий отдельную опасность малых размеров</li> </ul>




<p>МП.1.2.8</p>	<p>Что обозначает изображенный на иллюстрации плавучий навигационный знак?</p>		<ul style="list-style-type: none"> <li>• Левую сторону фарватера</li> <li>• Ось фарватера</li> <li>• Основной фарватер справа</li> <li>• Правую сторону фарватера</li> </ul>
<p>МП.1.2.9</p>	<p>Что обозначает изображенный на иллюстрации плавучий навигационный знак?</p>		<ul style="list-style-type: none"> <li>• Ограждающий отдельную опасность</li> <li>• Чистой воды</li> <li>• Осевой</li> <li>• Специального назначения</li> </ul>
<p>МП.1.2.10</p>	<p>Что обозначает изображенный на иллюстрации плавучий навигационный знак?</p>		<ul style="list-style-type: none"> <li>• Правой стороны</li> <li>• Осевой</li> <li>• Основной фарватер слева</li> <li>• Основной фарватер справа</li> </ul>


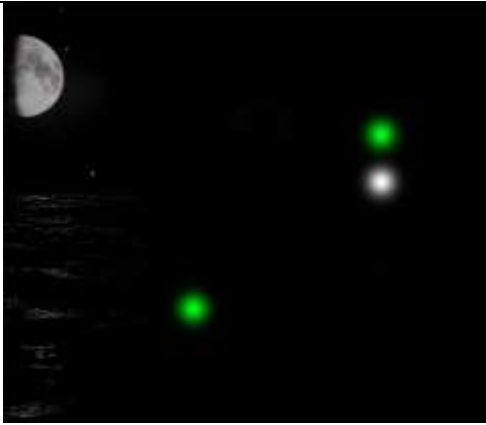
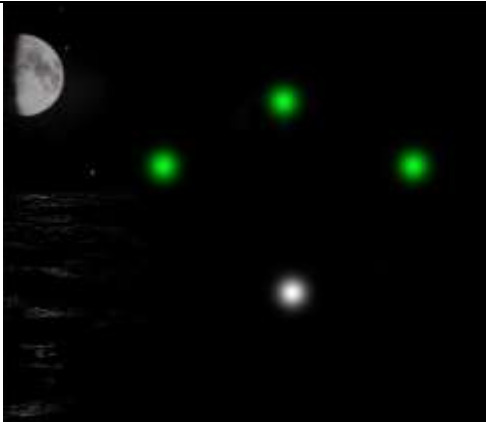
<p>МП.1.2.11</p>	<p>Что обозначает изображенный на иллюстрации плавучий навигационный знак?</p>		<ul style="list-style-type: none"> <li>• Левой стороны</li> <li>• Специального назначения</li> <li>• Правой стороны</li> <li>• Осевой</li> </ul>
<p>МП.1.2.12</p>	<p>Что обозначает изображенный на иллюстрации плавучий навигационный знак?</p>		<ul style="list-style-type: none"> <li>• Чистой воды</li> <li>• Правой стороны</li> <li>• Основной фарватер справа</li> <li>• Левой стороны</li> </ul>
<p>МП.1.2.13</p>	<p>Что обозначает изображенный на иллюстрации плавучий навигационный знак?</p>		<ul style="list-style-type: none"> <li>• Опасности</li> <li>• Осевой</li> <li>• Основной фарватер слева</li> <li>• Основной фарватер справа</li> </ul>

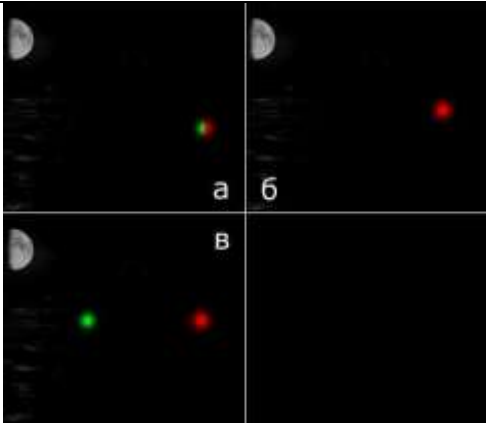







<p>МП.1.2.14</p>	<p>Какое судно несет огни, изображенные на иллюстрации?</p>		<ul style="list-style-type: none"> <li>• На воздушной подушке</li> <li>• Лоцманское</li> <li>• Рыболовное</li> <li>• Парусное</li> </ul>
<p>МП.1.2.15</p>	<p>Какими работами занято изображенное на иллюстрации судно?</p>		<ul style="list-style-type: none"> <li>• Водолазными</li> <li>• Ловом рыбы</li> <li>• Буксировкой</li> <li>• Дноуглубительными</li> </ul>
<p>МП.1.2.16</p>	<p>Какое из изображенных на иллюстрации судов следует от нас?</p>		<ul style="list-style-type: none"> <li>• а) и в)</li> <li>• б) и в)</li> <li>• в)</li> <li>• а) и б)</li> </ul>




<p>МП.1.2.17</p>	<p>Какое судно несет изображенные на иллюстрации знаки?</p>		<ul style="list-style-type: none"> <li>• Судно, занятое ловом рыбы тралением</li> <li>• Судно, лишенное возможности управляться</li> <li>• Судно, занятое дноуглубительными работами</li> <li>• Судно, занятое работой по устранению минной опасности</li> </ul>
<p>МП.1.2.18</p>	<p>Какое судно несет изображенные на иллюстрации знаки?</p>		<ul style="list-style-type: none"> <li>• Лишенное возможности маневрировать</li> <li>• Стоящее на мели</li> <li>• Стоящее на якоре</li> <li>• Лишенное возможности управляться</li> </ul>
<p>МП.1.2.19</p>	<p>Какое судно несет изображенные на иллюстрации знаки?</p>		<ul style="list-style-type: none"> <li>• Судно на якоре</li> <li>• Судно, занятое ловом рыбы</li> <li>• Судно, лишенное возможности управляться</li> <li>• Судно на мели</li> </ul>




<p>МП.1.2.20</p>	<p>Какое судно несет изображенный на иллюстрации знак?</p>		<ul style="list-style-type: none"> <li>• Буксирное, при длине менее 200 м</li> <li>• Буксирное, при длине буксира более 200 м</li> <li>• Рыболовное, длиной менее 20 м</li> <li>• Рыболовное, занятое ловом рыбы</li> </ul>
<p>МП.1.2.21</p>	<p>Какое судно несет изображенный на иллюстрации знак?</p>		<ul style="list-style-type: none"> <li>• Рыболовное судно длиной более 50 м, занятое тралением</li> <li>• Рыболовное судно длиной менее 50 м, занятое тралением</li> <li>• Рыболовное судно, занятое ловом рыбы кошельковыми неводами</li> <li>• Любое из перечисленных рыболовных судов</li> </ul>
<p>МП.1.2.22</p>	<p>Какое судно несет изображенный на иллюстрации знак?</p>		<ul style="list-style-type: none"> <li>• Судно на мели</li> <li>• Судно, лишенное возможности маневрировать</li> <li>• Рыболовное судно</li> <li>• Судно на якорю</li> </ul>

<p>МП.1.2.23</p>	<p>Какое судно несет изображенный на иллюстрации знак?</p>		<ul style="list-style-type: none"> <li>• Парусное судно</li> <li>• Буксир</li> <li>• Рыболовное</li> <li>• Судно, идущее под парусом и одновременно приводимое в движение механической установкой</li> </ul>
<p>МП.1.2.24</p>	<p>Какое судно несет огни, изображенные на иллюстрации?</p>		<ul style="list-style-type: none"> <li>• Занятое ловом рыбы, с помощью сетей. Виден правый борт</li> <li>• Занятое ловом рыбы кошельковым способом. Виден левый борт</li> <li>• Занятое тралением мин. Виден правый борт</li> <li>• Занятое ловом рыбы с использованием трала. Виден правый борт</li> </ul>
<p>МП.1.2.25</p>	<p>Какое судно несет огни, изображенные на иллюстрации?</p>		<ul style="list-style-type: none"> <li>• Занятое ловом рыбы. Идет от нас</li> <li>• Занятое водолазными работами. Идет на нас</li> <li>• Занятое дноуглубительными работами. Идет на нас</li> <li>• Занятое работами по устранению минной опасности. Идет от нас</li> </ul>




<p>МП.1.2.26</p>	<p>Какое из судов, изображенных на иллюстрации, идет на веслах?</p>		<ul style="list-style-type: none"> <li>• а)</li> <li>• б)</li> <li>• в)</li> <li>• Любое</li> </ul>
<p>МП.1.2.27</p>	<p>В какой стороне необходимо оставить изображенный на иллюстрации плавучий навигационный знак?</p>		<ul style="list-style-type: none"> <li>• к S</li> <li>• к N</li> <li>• к W</li> <li>• к E</li> </ul>
<p>МП.1.2.28</p>	<p>В какой стороне необходимо оставить изображенный на иллюстрации плавучий навигационный знак?</p>		<ul style="list-style-type: none"> <li>• к E</li> <li>• к N</li> <li>• к W</li> <li>• к S</li> </ul>


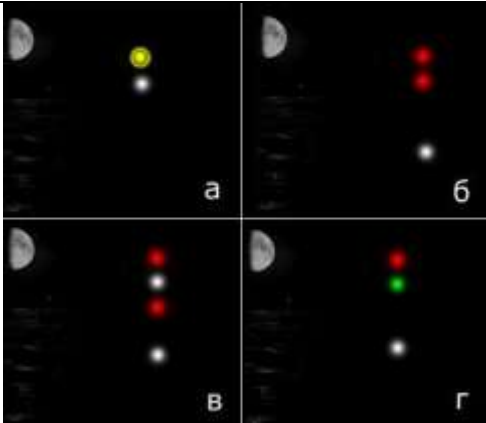

<p>МП.1.2.29</p>	<p>В какой стороне необходимо оставить изображенный на иллюстрации плавучий навигационный знак?</p>		<ul style="list-style-type: none"> <li>• к E</li> <li>• к N</li> <li>• к S</li> <li>• к W</li> </ul>
<p>МП.1.2.30</p>	<p>С какой стороны необходимо оставить изображенный на иллюстрации плавучий навигационный знак?</p>		<ul style="list-style-type: none"> <li>• к N</li> <li>• к S</li> <li>• к W</li> <li>• с любой</li> </ul>
<p>МП.1.2.31</p>	<p>На каком судне выставляется изображенный на иллюстрации сигнал?</p>		<ul style="list-style-type: none"> <li>• На рыболовном</li> <li>• На стоящем на якорю</li> <li>• На лишенном возможности управляться</li> <li>• На терпящем бедствие</li> </ul>




<p>МП.1.2.32</p>	<p>На каком судне выставляются изображенные на иллюстрации знаки?</p>		<ul style="list-style-type: none"> <li>• На рыболовном судне</li> <li>• На судне, стоящем на якоре</li> <li>• На судне, лишенном возможности управляться</li> <li>• На судне, ограниченном в возможности маневрировать</li> </ul>
<p>МП.1.2.33</p>	<p>В какой стороне необходимо оставить изображенный на иллюстрации плавучий навигационный знак?</p>		<ul style="list-style-type: none"> <li>• к N</li> <li>• к S</li> <li>• к W</li> <li>• к E</li> </ul>
<p>МП.1.2.34</p>	<p>В какой стороне необходимо оставить изображенный на иллюстрации плавучий навигационный знак?</p>		<ul style="list-style-type: none"> <li>• к N</li> <li>• к S</li> <li>• к W</li> <li>• к E</li> </ul>




<p>МП.1.2.35</p>	<p>В каком генеральном направлении следует указанное маломерное судно?</p>		<ul style="list-style-type: none"> <li>• В море</li> <li>• Из порта</li> <li>• Из устья реки</li> <li>• С моря</li> </ul>
<p>МП.1.2.36</p>	<p>С какой стороны необходимо пройти мимо изображенного на иллюстрации плавучего навигационного знака?</p>		<ul style="list-style-type: none"> <li>• с E</li> <li>• с N</li> <li>• с W</li> <li>• с S</li> </ul>
<p>МП.1.2.37</p>	<p>С какой стороны необходимо пройти мимо изображенного на иллюстрации плавучего навигационного знака?</p>		<ul style="list-style-type: none"> <li>• с E</li> <li>• с N</li> <li>• с W</li> <li>• с S</li> </ul>









<p>МП.1.2.38</p>	<p>С какой стороны необходимо пройти мимо изображенного на иллюстрации плавучего навигационного знака?</p>		<ul style="list-style-type: none"> <li>• с E</li> <li>• с N</li> <li>• с W</li> <li>• с S</li> </ul>
<p>МП.1.2.39</p>	<p>В каком генеральном направлении следует изображенное на иллюстрации маломерное судно?</p>		<ul style="list-style-type: none"> <li>• В порт</li> <li>• В устье реки</li> <li>• Из порта</li> <li>• В сторону моря</li> </ul>
<p>МП.1.2.40</p>	<p>Что обозначает изображенный на иллюстрации сигнал?</p>		<ul style="list-style-type: none"> <li>• Я делаю поворот вправо</li> <li>• Человек за бортом</li> <li>• Остановите свое судно</li> <li>• Сигнал бедствия</li> </ul>




<p>МП.1.2.41</p>	<p>Что означает изображенный на иллюстрации сигнал, поднимаемый на судне днем?</p>		<ul style="list-style-type: none"> <li>• Судно ловит рыбу</li> <li>• Судно снимается с якоря</li> <li>• Судно становится на якорь</li> <li>• Сигнал бедствия</li> </ul>
<p>МП.1.2.42</p>	<p>Какое из судов, изображенных на иллюстрации, является парусным?</p>		<ul style="list-style-type: none"> <li>• а)</li> <li>• б)</li> <li>• в)</li> <li>• г)</li> </ul>
<p>МП.1.2.43</p>	<p>Какое судно несет огни, изображенные на иллюстрации?</p>		<ul style="list-style-type: none"> <li>• Судно на ходу. Виден правый борт</li> <li>• Судно на ходу. Виден левый борт</li> <li>• Судно на ходу. Видна корма</li> <li>• Судно, лишенное возможности управляться и не имеющее хода относительно воды</li> </ul>



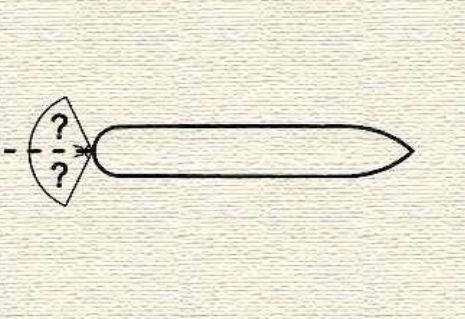

<p>МП.1.2.44</p>	<p>Какое из судов, изображенных на иллюстрации, является лоцманским?</p>		<ul style="list-style-type: none"> <li>• а)</li> <li>• б)</li> <li>• Ни одно из изображенных</li> <li>• в)</li> </ul>
<p>МП.1.2.45</p>	<p>Какое судно несет огни, изображенные на иллюстрации?</p>		<ul style="list-style-type: none"> <li>• Парусное судно, идущее под мотором, длиной менее 12 м</li> <li>• Парусное судно длиной менее 50 м</li> <li>• Лоцманское судно</li> <li>• Судно, занятое ловом рыбы</li> </ul>
<p>МП.1.2.46</p>	<p>В какой стороне относительно изображенного на иллюстрации плавучего навигационного знака находится основной фарватер?</p>		<ul style="list-style-type: none"> <li>• к N</li> <li>• к S</li> <li>• Справа</li> <li>• Слева</li> </ul>

<p>МП.1.2.47</p>	<p>Какое из судов, изображенных на иллюстрации, занято дноуглубительными работами?</p>		<ul style="list-style-type: none"> <li>• а)</li> <li>• б)</li> <li>• в)</li> <li>• Ни одно из изображенных</li> </ul>
<p>МП.1.2.48</p>	<p>На какой иллюстрации изображено судно на воздушной подушке, длиной менее 50 м, которое идет на нас?</p>		<ul style="list-style-type: none"> <li>• а)</li> <li>• в)</li> <li>• г)</li> <li>• б)</li> </ul>
<p>МП.1.2.49</p>	<p>На какой иллюстрации изображен левый борт судна с механическим двигателем, длиной менее 50 м, на ходу?</p>		<ul style="list-style-type: none"> <li>• а) и б)</li> <li>• а) и в)</li> <li>• в)</li> <li>• а)</li> </ul>





<p>МП.1.2.50</p>	<p>При какой длине буксира выставляется изображенное на иллюстрации знак на судне с механическим двигателем, занятом буксировкой?</p>		<ul style="list-style-type: none"> <li>• Менее 100 м</li> <li>• Менее 200 м</li> <li>• Более 100 м</li> <li>• Более 200 м</li> </ul>
<p>МП.1.2.51</p>	<p>Что означает флаг, изображенный на иллюстрации?</p>		<ul style="list-style-type: none"> <li>• «Вы идете к опасности»</li> <li>• «Человек за бортом»</li> <li>• «Я хочу установить с Вами связь»</li> <li>• «Остановите немедленно свое судно»</li> </ul>
<p>МП.1.2.52</p>	<p>Что означает флаг, изображенный на иллюстрации?</p>		<ul style="list-style-type: none"> <li>• «Вы идете к опасности»</li> <li>• «Человек за бортом»</li> <li>• «Я хочу установить с Вами связь»</li> <li>• «Остановите немедленно свое судно»</li> </ul>

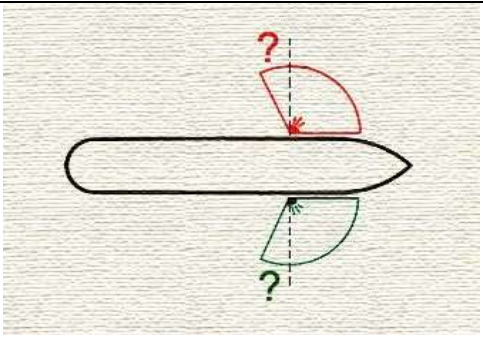



<p>МП.1.2.53</p>	<p>Что означает флаг, изображенный на иллюстрации?</p>		<ul style="list-style-type: none"> <li>• «Вы идете к опасности»</li> <li>• «Человек за бортом»</li> <li>• «Я хочу установить с Вами связь»</li> <li>• «Остановите немедленно свое судно»</li> </ul>
<p>МП.1.2.54</p>	<p>Что означает флаг, изображенный на иллюстрации?</p>		<ul style="list-style-type: none"> <li>• «Вы идете к опасности»</li> <li>• «Человек за бортом»</li> <li>• «Я хочу установить с Вами связь»</li> <li>• «Остановите немедленно свое судно»</li> </ul>
<p>МП.1.2.55</p>	<p>Какое должностное лицо в морском порту отвечает за безопасность мореплавания в порту и на подходах к нему?</p>		<ul style="list-style-type: none"> <li>• Стивидор</li> <li>• Диспетчер</li> <li>• Лоцман</li> <li>• Капитан порта</li> </ul>




<p>МП.1.2.56</p>	<p>Огни какого судна наблюдаются на иллюстрации?</p>		<ul style="list-style-type: none"> <li>• Буксировка в кильватер, длина буксирующего судна менее 50м, длина буксира менее 200м</li> <li>• Буксировка в кильватер, длина буксирующего судна более 50м, длина буксира менее 200м</li> <li>• Буксировка в кильватер, длина буксирующего судна более 50м, длина буксира более 200м</li> <li>• Буксировка в кильватер, длина буксирующего судна менее 50м, длина буксира более 200м</li> </ul>
<p>МП.1.2.57</p>	<p>Какое судно считается, согласно МППСС-72, обгоняющим?</p>		<ul style="list-style-type: none"> <li>• Которое подходит с курсового угла 90° и более</li> <li>• Которое подходит с направления два с половиной румба позади траверза</li> <li>• Которое подходит с курсового угла более 112,5°</li> <li>• Любое судно, которое имеет скорость больше скорости нашего судна</li> </ul>
<p>МП.1.2.58</p>	<p>Огни какого судна показаны на иллюстрации</p>		<ul style="list-style-type: none"> <li>• Судно, занятое ловом рыбы тралением на якоре</li> <li>• Судно занятое ловом рыбы тралением на ходу, идет влево</li> <li>• Судно, ограниченное в возможности маневрировать</li> <li>• Судно, занятое ловом рыбы, за исключением судов, занятых тралением, у которого снасти простираются в море по горизонтали более чем на 150 м от судна, идет влево</li> </ul>




<p>МП.1.2.59</p>	<p>Каковы действия судна, когда, находясь в районе ограниченной видимости, оно не может предотвратить чрезмерного сближения с другим судном, находящимся впереди траверза?</p>		<ul style="list-style-type: none"> <li>• Отдать якорь</li> <li>• Подать не менее пяти коротких и частых звуков свистком для привлечения внимания другого судна</li> <li>• Уменьшить ход до минимального, достаточного для удержания судна на курсе</li> <li>• Сообщить о своих действиях на канале вызова УКВ-связи</li> </ul>
<p>МП.1.2.60</p>	<p>В ночное время Вы наблюдаете огни судна с механическим двигателем на ходу, у которого виден также круговой проблесковый желтый огонь. Что это за судно?</p>		<ul style="list-style-type: none"> <li>• Экраноплан</li> <li>• Гидросамолет</li> <li>• Судно на подводных крыльях, находящееся в неводоизмещающем состоянии <ul style="list-style-type: none"> <li>• Судно на воздушной подушке, находящееся в неводоизмещающем состоянии</li> </ul> </li> </ul>
<p>МП.1.2.61</p>	<p>Кормовой огонь судна установлен таким образом, чтобы светить от направления прямо по корме до (?) в сторону каждого борта</p>		<ul style="list-style-type: none"> <li>• 22,5°</li> <li>• 112,5°</li> <li>• 67,5°</li> <li>• 62,5°</li> </ul>
<p>МП.1.2.62</p>	<p>Два парусных судна идут разными галсами, опасно сближаясь друг с другом. Какие взаимные обязанности установлены между ними согласно Правил?</p>		<ul style="list-style-type: none"> <li>• Судна, идущее правым галсом должно уступить дорогу другому судну</li> <li>• Оба судна должны предпринять действия для расхождения на безопасном расстоянии</li> <li>• Судно, идущее левым галсом, должно уступить дорогу другому судну</li> <li>• То судно, которое идет более круто к ветру, должно сохранять свой курс и скорость</li> </ul>


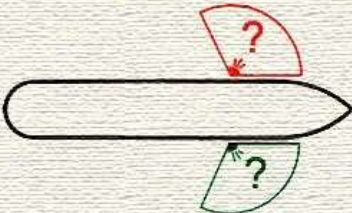







<p>МП.1.2.63</p>	<p>Где должно находиться судно во время следования узким проходом или фарватером</p>		<ul style="list-style-type: none"> <li>• Оно должно идти по оси фарватера</li> <li>• Оно должно держаться немного справа от оси фарватера</li> <li>• Оно должно держаться внешней границы фарватера, которая находится с его правого борта</li> <li>• Оно может держаться любой внешней границы фарватера</li> </ul>
<p>МП.1.2.64</p>	<p>Какое утверждение является правильным в отношении подачи звуковых сигналов при нахождении вашего судна вблизи района с ограниченной видимостью</p>		<ul style="list-style-type: none"> <li>• Подавать звуковые сигналы не обязательно</li> <li>• Должны подавать звуковые</li> <li>• сигналы только в ответ на услышанные</li> <li>• Обязаны подавать звуковые сигналы</li> <li>• Можем подавать звуковые сигналы</li> </ul>
<p>МП.1.2.65</p>	<p>Какое значение имеют три шара, расположенные по вертикальной линии?</p>		<ul style="list-style-type: none"> <li>• Судно, стесненное своей осадкой</li> <li>• Судно, занятое дноуглубительными работами</li> <li>• Судно, стоящее на мели</li> <li>• Судно занятое работами по устранению минной опасности</li> </ul>
<p>МП.1.2.66</p>	<p>Какие из перечисленных состояний судна подпадают под термин «НА ХОДУ»?</p>		<ul style="list-style-type: none"> <li>• Судно стоит на бочке</li> <li>• Судно под парусами лежит в дрейфе</li> <li>• Стоит на мели</li> <li>• Судно пришвартовано к дереву, стоящему на берегу</li> </ul>




<p>МП.1.2.67</p>	<p>Бортовой огонь светит от направления прямо по носу и до (?) позади траверза</p>		<ul style="list-style-type: none"> <li>• 67,5°</li> <li>• 35°</li> <li>• 22,5°</li> <li>• 25°</li> </ul>
<p>МП.1.2.68</p>	<p>У обгоняемого судна ночью с обгоняющего могут наблюдаться только ...</p>		<ul style="list-style-type: none"> <li>• Бортовой огонь</li> <li>• Бортовой и топовый огонь</li> <li>• Только кормовой огонь</li> <li>• Бортовой, топовый и кормовой огни</li> </ul>
<p>МП.1.2.69</p>	<p>Каковы ваши действия в ответ на один продолжительный звуковой сигнал, который слышен из-за крутого изгиба фарватера?</p>		<ul style="list-style-type: none"> <li>• Выйти на связь по УКВ-станции и выяснить, кто и в связи с чем подаёт этот сигнал</li> <li>• Подать для привлечения внимания к себе по меньшей мере пять коротких и частых звуков свистком</li> <li>• Ответить одним продолжительным звуком</li> <li>• Встать на якорь, если позволяют обстоятельства</li> </ul>
<p>МП.1.2.70</p>	<p>Огни какого судна показаны на иллюстрации?</p>		<ul style="list-style-type: none"> <li>• Судно с механическим двигателем длиной более 100 м толкает впереди другое судно, идет вправо</li> <li>• Судно с механическим двигателем длиной 75 м толкает впереди другое жестко сочлененное судно. Общая длина состава 150 м. Идет вправо</li> <li>• Судно с механическим двигателем длиной 90 м толкает вперед другое жестко сочлененное судно, идет вправо.</li> </ul>

			<ul style="list-style-type: none"> <li>• Общая длина состава 100 м</li> <li>• Судно с механическим двигателем длиной менее 50 м толкает впереди другое судно, идет вправо</li> </ul>
МП.1.2.71	Каковы обязанности судна, которое, согласно МППСС, не должно затруднять движение или безопасный проход другого судна		<ul style="list-style-type: none"> <li>• Должно, когда этого требуют обстоятельства, заблаговременно выйти на связь УКВ</li> <li>• Должно, когда этого требуют обстоятельства, предпринимать заблаговременные действия с тем, чтобы оставить достаточное водное пространство для прохода другого судна</li> <li>• Должно, когда этого требуют обстоятельства, в последний момент уступить дорогу другому судну</li> <li>• Должно, когда этого требуют обстоятельства, усилить наблюдение за действиями другого судна</li> </ul>
МП.1.2.72	Два парусных судна идут одним и тем же галсом, опасно сближаясь друг с другом. Какие взаимные обязанности установлены между ними согласно Правил?		<ul style="list-style-type: none"> <li>• Судно, находящееся под ветром, уступает дорогу судну, находящемуся на ветре</li> <li>• То судно, которое идет более круто к ветру, должно сохранять свой курс и скорость</li> <li>• Оба судна должны предпринять действия для расхождения на безопасном расстоянии</li> <li>• Судно, находящееся на ветре, уступает дорогу судну, находящемуся под ветром</li> </ul>
МП.1.2.73	Судно с механическим двигателем длиной менее 7 м, имеющее максимальную скорость не более 7 узлов		<ul style="list-style-type: none"> <li>• Должно выставлять белый круговой огонь вместо огней топового, бортовых и кормового</li> <li>• Может выставлять белый круговой огонь вместо огней топового и кормового, и должно, если это практически возможно, выставлять также бортовые огни</li> <li>• Должно выставлять только бортовые огни</li> <li>• Должно иметь наготове электрический фонарик, который заблаговременно выставляется для предупреждения</li> </ul>

			74столкновения
МП.1.2.74	Огонь какого судна наблюдаются на иллюстрации		<ul style="list-style-type: none"> <li>• Судно, стесненное своей осадкой, идет на нас</li> <li>• Судно длиной менее 50 м на мели</li> <li>• Лоцманское судно при исполнении своих обязанностей на якоре</li> <li>• Парусное судно длиной менее 7 м</li> </ul>
МП.1.2.75	Какой из указанных знаков поднимается, когда судно становится на якорь		<ul style="list-style-type: none"> <li>• А</li> <li>• Б</li> <li>• В</li> <li>• Г</li> </ul>
МП.1.2.76	Когда заканчивается обязанность обгоняющего судна по отношению к обгоняемому держаться от него в стороне?		<ul style="list-style-type: none"> <li>• Когда оно оказалось впереди траверза у обгоняемого судна</li> <li>• Когда оно окончательно прошло обгоняемое судно и оставило его позади</li> <li>• Когда расстояние до обгоняемого судна перестало уменьшаться</li> <li>• Когда обгоняемое судно перестало наблюдаться визуально с обгоняющего</li> </ul>

<p>МП.1.2.77</p>	<p>Какое из указанных судов должно подавать звуковые сигналы при ограниченной видимости через промежуток времени не более 2 минут три последовательных звука, а именно - один продолжительный и в след за ним два коротких?</p>		<ul style="list-style-type: none"> <li>• Судно, занятое ловом рыбы</li> <li>• Судно, ограниченное в возможности маневрировать</li> <li>• Парусное судно</li> <li>• Все, указанные в ответах суда</li> </ul>
<p>МП.1.2.78</p>	<p>Бортовой огонь освещает дугу горизонта</p>		<ul style="list-style-type: none"> <li>• 122,5°</li> <li>• 135°</li> <li>• 112,5°</li> <li>• 67,5°</li> </ul>
<p>МП.1.2.79</p>	<p>Опасность столкновения считается существующей, если</p>		<ul style="list-style-type: none"> <li>• Пеленг и дистанция на наблюдаемое судно не меняются</li> <li>• Пеленг приближающегося судна заметно не меняется</li> <li>• Пеленг приближающегося судна изменяется в сторону носа</li> <li>• Пеленг приближающегося судна изменяется в сторону кормы</li> </ul>
<p>МП.1.2.80</p>	<p>Какое из приведенных ниже утверждений в отношении термина "НА ВИДУ ДРУГ У ДРУГА" соответствует Правилам?</p>		<ul style="list-style-type: none"> <li>• Когда другое судно наблюдается только в бинокль</li> <li>• Когда из-за низко стелющегося тумана видны только мачты другого судна</li> <li>• Когда судно может визуалью наблюдаться с другого судна</li> <li>• Все, приведенные утверждения, являются правильными</li> </ul>

<p>МП.1.2.81</p>	<p>Огни какого судна показаны на иллюстрации?</p>		<ul style="list-style-type: none"> <li>• Буксировка в кильватер, длина буксирующего судна более 20м, длина буксира более 200м, идет влево</li> <li>• Буксировка в кильватер, длина буксирующего судна менее 20м, длина буксира менее 200м, идет влево</li> <li>• Буксировка в кильватер, длина буксирующего судна более 100м, длина буксира менее 200м, идет влево</li> <li>• Буксировка в кильватер, длина буксирующего судна более 100м, длина буксира более 200м, идет влево</li> </ul>
<p>МП.1.2.82</p>	<p>Кому НЕ уступает дорогу парусное судно?</p>		<ul style="list-style-type: none"> <li>• Судну, занятому ловом рыбы</li> <li>• Судну, лишенному возможности управляться</li> <li>• Судну, ограниченному в возможности маневрировать</li> <li>• Судну с механическим двигателем</li> </ul>
<p>МП.1.2.83</p>	<p>Следуя в районе ограниченной видимости или вблизи такого района, парусное судно должно подавать</p>		<ul style="list-style-type: none"> <li>• Один продолжительный и вслед за ним два коротких звуковых сигнала</li> <li>• Два продолжительных звуковых сигнала</li> <li>• Два продолжительных и один короткий звуковой сигнал</li> <li>• Парусному судну нет необходимости подавать такие сигналы</li> </ul>





<p>МП.1.2.84</p>	<p>В темное время суток Вы обнаружили огни судна, указанные на иллюстрации?. Какие ограничения в отношении минимального расстояния расхождения с таким судном существуют в МППСС-72</p>		<ul style="list-style-type: none"> <li>• 1852 м</li> <li>• 1000 м</li> <li>• 100 м</li> <li>• 2000 м</li> </ul>
<p>МП.1.2.85</p>	<p>Знаки какого судна указаны на иллюстрации?</p>		<ul style="list-style-type: none"> <li>• Судно, занятое такой буксировкой, которая значительно ограничивает возможности судов, участвующих в такой буксировочной операции, отклониться от своего курса</li> <li>• Судно, стоящее на мели</li> <li>• Судно, оказавшееся в особых обстоятельствах, которые не упоминаются в Правилах</li> <li>• Судно, занятое подводными операциями и ограниченное в возможности маневрировать</li> </ul>
<p>МП.1.2.86</p>	<p>При следовании в системе разделения движения (или при ее пересечении) парусное судно</p>		<ul style="list-style-type: none"> <li>• Не должно затруднять проход судна с механическим двигателем, следующего в полосе движения</li> <li>• Пользуется правом дороги</li> <li>• Не имеет права пересекать систему разделения движения</li> <li>• Системы разделения движения не имеют отношения к парусным судам</li> </ul>

<p>МП.1.2.87</p>	<p>Пересекая курс по носу грузового судна так, как показано на фотографии, маломерное судно</p>		<ul style="list-style-type: none"> <li>• Нарушает правила МППСС</li> <li>• Не нарушает правила МППСС</li> <li>• Не нарушает правила МППСС, если им предварительно было подано пять или более коротких звуковых сигналов</li> </ul>
<p>МП.1.2.88</p>	<p>Комбинированный фонарь, в котором выставляются бортовые огни, используют</p>		<ul style="list-style-type: none"> <li>• Судно длиной менее 20 м</li> <li>• Судно с механическим двигателем длиной менее 12 м</li> <li>• Парусное судно длиной менее 20 м</li> <li>• Все суда, указанные в ответах</li> </ul>
<p>МП.1.2.89</p>	<p>Правило, относящееся к обгону, применяется, когда суда находятся</p>		<ul style="list-style-type: none"> <li>• При любых условиях видимости</li> <li>• На виду друг у друга</li> <li>• Только в условиях ограниченной видимости</li> <li>• Только в узкостях</li> </ul>







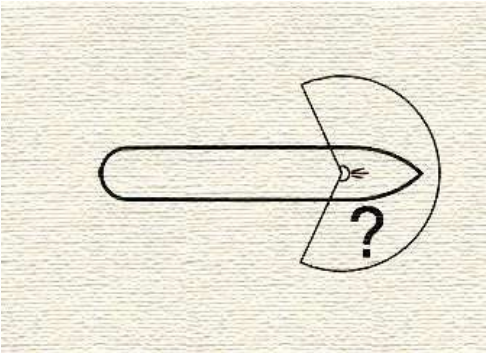

<p>МП.1.2.90</p>	<p>В открытом море опасно сближаются на пересекающихся курсах парусное судно и судно, занятое ловом рыбы, которое наблюдает парусник со своего правого борта. Каковы взаимные обязанности судов?</p>		<ul style="list-style-type: none"> <li>• Парусное судно должно сохранять свой курс и скорость, т.к. оно наблюдает другое судно слева</li> <li>• Судно, занятое ловом рыбы, должно уступить дорогу парусному судну, т.к. оно наблюдает другое судно справа</li> <li>• Судно, занятое ловом рыбы, должно уступить дорогу парусному судну, т.к. последнее приводится в движение не механической установкой</li> <li>• Парусное судно должно уступить дорогу судну, занятому ловом рыбы</li> </ul>
<p>МП.1.2.91</p>	<p>В каких районах применяются МППСС-72</p>		<ul style="list-style-type: none"> <li>• Только в открытом море</li> <li>• Только в территориальных и внутренних водах, имеющих естественный или искусственный выход в открытое море</li> <li>• В районах, установленных прибрежным государством</li> <li>• В открытых морях и соединенных с ними водах, по которым могут плавать морские суда</li> </ul>
<p>МП.1.2.92</p>	<p>Следуя в тумане Вы обнаружили на иллюстрации? РЛС слева, впереди траверза, эхо-сигнал судна и установили, что развивается ситуация опасного сближения с ним. Какое утверждение является правильным?</p>		<ul style="list-style-type: none"> <li>• Мы должны сохранять свой курс и скорость</li> <li>• Мы должны предпринять действие, чтобы чисто разойтись с этим судном</li> <li>• Другое судно должно сохранять свой курс и скорость</li> <li>• Другое судно должно предпринять действия чтобы уступить нам дорогу, так как мы находимся у него справа</li> </ul>

<p>МП.1.2.93</p>	<p>Следуя в плохую видимость, вы неожиданно услышали туманный сигнал другого судна по-видимому впереди своего траверза. Вы должны</p>		<ul style="list-style-type: none"> <li>• Подать по меньшей мере пять коротких и частых звуков свистком для привлечения внимания другого судна</li> <li>• Уменьшить ход до минимального, достаточного для удержания судна на курсе</li> <li>• Попытаться установить связь с другим судном на канале вызова УКВ-связи</li> <li>• Изменить курс вправо на значительный угол</li> </ul>
<p>МП.1.2.94</p>	<p>При каком численном значении видимость считается ограниченной</p>		<ul style="list-style-type: none"> <li>• 2 мили</li> <li>• 5 миль</li> <li>• Равная тормозному пути судна</li> <li>• Ни одно из указанных утверждений не присутствует в Правилах</li> </ul>
<p>МП.1.2.95</p>	<p>Какое значение имеют огни, указанные на рисунке</p>		<ul style="list-style-type: none"> <li>• Судно, лишенное возможности управляться, и не имеющее хода относительно воды</li> <li>• Судно, занятое дноуглубительными работами, показывает сторону, на которой существует препятствие</li> <li>• Судно длиной более 20 м, занятое тралением, когда снасть зацепилась за препятствие</li> <li>• Судно, стоящее на мели</li> </ul>

<p>МП.1.2.96</p>	<p>Судно с механическим двигателем длиной менее 12 м</p>		<ul style="list-style-type: none"> <li>• Может вместо огней топового, бортовых и кормового выставлять белый круговой огонь и бортовые огни</li> <li>• Может выставлять один топовый огонь и бортовые огни</li> <li>• Должно выставлять белый круговой огонь и бортовые огни вместо топового и кормового</li> <li>• Может выставлять один белый круговой огонь</li> </ul>
<p>МП.1.2.97</p>	<p>Огни какого судна наблюдаются на иллюстрации?</p>		<ul style="list-style-type: none"> <li>• Судно, занятое ловом рыбы тралом, идет влево</li> <li>• Парусное судно, идет влево</li> <li>• Лоцманское судно, идет влево</li> <li>• Судно, занятое дноуглубительными работами, показывает сторону, по которой проход запрещен</li> </ul>
<p>МП.1.2.98</p>	<p>Какое из приведенных ниже судов подпадает под термин «СУДНО, ОГРАНИЧЕННОЕ В ВОЗМОЖНОСТИ МАНЕВРИРОВАТЬ»</p>		<ul style="list-style-type: none"> <li>• Из-за неисправности перо руля может переключаться только на 7 градусов</li> <li>• Зацепилось рыболовным тралом за грунт</li> <li>• Маневрирует при сдаче лоцмана на лоцманский катер</li> <li>• Из-за штормовых условий не может маневрировать так, как это предписано Правилами</li> </ul>
<p>МП.1.2.99</p>	<p>Огни какого судна показаны на иллюстрации??</p>		<ul style="list-style-type: none"> <li>• Гидросамолет на якоре</li> <li>• Буксируемое судно, идет на нас</li> <li>• Полупогруженный буксируемый объект</li> <li>• Судно, занятое буксировкой, идет от нас</li> </ul>




<p>МП.1.2.100</p>	<p>Какой знак выставляет в дневное время судно с механическим двигателем, занятое буксировкой с кормы, если длина буксира, измеренная от кормы буксирующего судна до кормы буксируемого, превышает 200м</p>		<ul style="list-style-type: none"> <li>• А</li> <li>• Б</li> <li>• В</li> <li>• Г</li> </ul>
<p>МП.1.2.101</p>	<p>Огни какого судна наблюдаются на иллюстрации?</p>		<ul style="list-style-type: none"> <li>• Судно, занятое устранением минной опасности, идет вправо</li> <li>• Судно, лишенное возможности управляться имеет ход относительно воды, идет влево</li> <li>• Судно, занятое ловом рыбы тралом длиной более 50 м на ходу, идет влево</li> <li>• Судно занятое сложной буксировкой, длиной менее 50 м</li> </ul>
<p>МП.1.2.102</p>	<p>Судно, которому уступают дорогу в условиях на виду друг у друга ...</p>		<ul style="list-style-type: none"> <li>• Должно сохранять свой курс и скорость</li> <li>• Может предпринять действие для избежания столкновения, когда ему становится очевидно, что другое судно, обязанное уступить дорогу, не предпринимает соответствующего действия</li> <li>• Должно предпринять действия для предотвращения столкновения, если обнаружило, что столкновения нельзя избежать только действиями судна, уступающего дорогу</li> <li>• Все меры, указанные в ответах</li> </ul>

<p>МП.1.2.103</p>	<p>Какой знак в дневное время выставляет судно, идущее под парусом, и, в то же время, приводимое в движение механической установкой</p>		<ul style="list-style-type: none"> <li>• А</li> <li>• Б</li> <li>• В</li> <li>• Г</li> </ul>
<p>МП.1.2.104</p>	<p>При плавании в районе системы разделения движения парусное судно</p>		<ul style="list-style-type: none"> <li>• Может использовать зону прибрежного плавания</li> <li>• Должно следовать в пределах зоны разделения, между потоками движения судов</li> <li>• Должно следовать за пределами системы разделения движения судов</li> <li>• Системы разделения движения не имеют отношения к парусным судам</li> </ul>
<p>МП.1.2.105</p>	<p>Какой из приведенных знаков несет судно, занятое тралением</p>		<ul style="list-style-type: none"> <li>• А</li> <li>• Б</li> <li>• В</li> <li>• Г</li> </ul>
<p>МП.1.2.106</p>	<p>Огни какого судна показаны на иллюстрации?</p>		<ul style="list-style-type: none"> <li>• Судно, занятое ловом рыбы нетраловыми снастями длиной более 150 м на ходу</li> <li>• Лоцманское судно на ходу, остановившееся и не имеющее ход относительно воды</li> <li>• Судно, занятое ловом рыбы нетраловыми снастями не более 150 м на ходу, но не имеющее ход относительно воды</li> <li>• Судно, занятое ловом рыбы тралением длиной</li> </ul>



			<p>менее 50 м на ходу, но не имеющее ход относительно воды</p>
МП.1.2.107	<p>Какова дуга горизонта, которую освещает топовый огонь судна</p>	 <p>The diagram shows a side view of a ship's hull. A horizontal line represents the horizon. A semi-circular arc is drawn above the horizon, starting from the ship's centerline and extending to the right. A question mark is placed inside the arc, indicating the angle to be determined.</p>	<ul style="list-style-type: none"> <li>• Дуга горизонта в <math>122,5^\circ</math> по каждому борту, берущая начало от диаметральной плоскости судна и в направлении в корму</li> <li>• Дуга горизонта в <math>112,5^\circ</math> по каждому борту, берущая начало от диаметральной плоскости судна и в направлении в корму</li> <li>• Дуга горизонта в <math>67,5^\circ</math> по каждому борту, берущая начало от диаметральной плоскости судна и в направлении в корму</li> <li>• Дуга горизонта в <math>135^\circ</math> по каждому борту, берущая начало от диаметральной плоскости судна и в направлении в корму</li> </ul>
МП.1.2.108	<p>В открытом море, ночью, Вы приближаетесь к судну, у которого виден кормовой огонь. Временами открывается его бортовой огонь, при этом кормовой огонь перестает быть виден. Вы должны</p>	 <p>A photograph showing a person in a white shirt and dark trousers standing at a radar console in a ship's bridge. The radar screen displays a green target with a white heading line. The background is dark, suggesting it is nighttime.</p>	<ul style="list-style-type: none"> <li>• Считать, что это ситуация пересечения курсов</li> <li>• Считать, что это обгон</li> <li>• Сманеврировать так, чтобы создать ситуацию пересечения курсов и действовать соответственно</li> <li>• Сманеврировать так, чтобы создать ситуацию обгона, и действовать соответственно</li> </ul>
МП.1.2.109	<p>Какое судно не должно выставлять топовые огни, когда оно на ходу и имеет ход относительно воды</p>	 <p>A vertical graphic featuring the COLREG (Collision Regulations) logo at the top, which includes an illustration of two ships. Below it is the IMO (International Maritime Organization) logo, which includes a globe and the text 'IMO'.</p>	<ul style="list-style-type: none"> <li>• Судно, лишенное возможности управляться</li> <li>• Буксируемое судно</li> <li>• Судно, занятое ловом рыбы нетраловыми снастями</li> <li>• Все ответы верные</li> </ul>

<p>МП.1.2.110</p>	<p>Кому уступает дорогу судно с механическим двигателем на ходу?</p>		<ul style="list-style-type: none"> <li>• Парусному судну</li> <li>• Судну, лишенному возможности управляться</li> <li>• Судну, ограниченному в возможности маневрировать</li> <li>• Всем судам, указанным в ответах</li> </ul>
<p>МП.1.2.111</p>	<p>Огни какого судна наблюдаются на иллюстрации?</p>		<ul style="list-style-type: none"> <li>• Судно с механическим двигателем длиной менее 50 м.</li> <li>• идет на нас</li> <li>• Парусное судно длиной более 20 м, идет на нас</li> <li>• Судно занятое ловом рыбы</li> <li>• Парусное судно длиной менее 20 м , идет на нас</li> </ul>
<p>МП.1.2.112</p>	<p>Огни какого судна показаны на иллюстрации?</p>		<ul style="list-style-type: none"> <li>• Судно, занятое устранением минной опасности, идет на нас</li> <li>• Судно, занятое ловом рыбы тралением на ходу, имеет ход относительно воды, идет на нас</li> <li>• Судно, занятое ловом рыбы тралением, на якоре, вид с носа</li> <li>• Судно, занятое ловом рыбы тралением на ходу, но остановившееся и не имеющее ход относительно воды, вид с носа</li> </ul>




**МП.1.3. Вопросы административной ответственности за нарушение правил плавания**

№	Вопрос	Иллюстрация	Варианты ответа (правильный выделен)
МП.1.3.1	На какой срок задерживается маломерное судно при совершении административного правонарушения?		<ul style="list-style-type: none"> <li>• На срок до рассмотрения дела об административном правонарушении</li> <li>• На срок до составления протокола об административном правонарушении</li> <li>• На срок до вступления постановления по делу об административном правонарушении в законную силу</li> <li>• На срок до устранения причины задержания</li> </ul>
МП.1.3.2	Какой срок отводится Кодексом Российской Федерации об административных правонарушениях для уплаты административного штрафа?		<ul style="list-style-type: none"> <li>• 10 суток</li> <li>• 20 суток</li> <li>• 60 суток</li> <li>• 30 суток</li> </ul>
МП.1.3.3	Какое административное наказание предусматривается за нарушение лицом, управляющим маломерным судном, правил маневрирования?		<ul style="list-style-type: none"> <li>• Административный штраф</li> <li>• Предупреждение</li> <li>• Предупреждение либо административный штраф</li> <li>• Предупреждение, либо административный штраф, либо лишение права управления маломерным судном на срок до шести месяцев</li> </ul>









<p>МП.1.3.4</p>	<p>Какое административное наказание предусмотрено за управление маломерным судном, не зарегистрированным в установленном порядке?</p>		<ul style="list-style-type: none"> <li>• Предупреждение</li> <li>• Предупреждение либо административный штраф</li> <li>• Предупреждение, либо административный штраф, либо лишение права управления маломерным судном</li> <li>• Административный штраф</li> </ul>
<p>МП.1.3.5</p>	<p>Какое административное наказание предусматривается за несоблюдение лицом, управляющим маломерным судном, установленной скорости?</p>		<ul style="list-style-type: none"> <li>• Административный штраф</li> <li>• Предупреждение</li> <li>• Предупреждение либо административный штраф</li> <li>• Предупреждение, либо административный штраф, либо лишение права управления маломерным судном на срок до шести месяцев</li> </ul>
<p>МП.1.3.6</p>	<p>Какое административное наказание предусматривается за управление маломерным судном, судоводителем, не имеющим при себе судового билета?</p>		<ul style="list-style-type: none"> <li>• Предупреждение</li> <li>• Предупреждение либо административный штраф</li> <li>• Предупреждение, либо административный штраф, либо лишение права управления маломерным судном на срок до шести месяцев</li> <li>• Административный штраф</li> </ul>




<p>МП.1.3.7</p>	<p>Какое административное наказание предусмотрено за управление маломерным судном судоводителем или иным лицом, находящимся в состоянии опьянения?</p>		<ul style="list-style-type: none"> <li>• Лишение прав управления маломерным судном</li> <li>• Предупреждение</li> <li>• Штраф</li> <li>• Штраф или лишение прав управления маломерным судном</li> </ul>
<p>МП.1.3.8</p>	<p>Какое административное наказание предусматривается за несоблюдение лицом, управляющим маломерным судном, требований навигационных знаков?</p>		<ul style="list-style-type: none"> <li>• Административный штраф</li> <li>• Лишение права управления маломерным судном на срок до шести месяцев</li> <li>• Предупреждение</li> <li>• Одно из перечисленных</li> </ul>
<p>МП.1.3.9</p>	<p>Какое административное наказание лица, управляющего маломерным судном, предусматривается за преднамеренную остановку или стоянку судна в запрещенных местах?</p>		<ul style="list-style-type: none"> <li>• Административный штраф</li> <li>• Предупреждение</li> <li>• Предупреждение либо административный штраф</li> <li>• Предупреждение, либо административный штраф, либо лишение права управления маломерным судном на срок до шести месяцев</li> </ul>

<p>МП.1.3.10</p>	<p>В течение какого срока гражданин, в отношении которого вынесено административное наказание, имеет право обжаловать постановление по делу об административном правонарушении?</p>		<ul style="list-style-type: none"> <li>• 5 суток</li> <li>• 20 суток</li> <li>• 15 суток</li> <li>• 10 суток</li> </ul>
<p>МП.1.3.11</p>	<p>В течение какого срока собственник маломерного судна обязан сообщить в орган государственной регистрации судна о любом изменении сведений, внесенных в реестр маломерных судов?</p>		<ul style="list-style-type: none"> <li>• В течение недели</li> <li>• В течение месяца</li> <li>• В течение трех недель</li> <li>• В течение двух недель</li> </ul>
<p>МП.1.3.12</p>	<p>Кем выносится постановление о лишении права управления маломерным судном?</p>		<ul style="list-style-type: none"> <li>• Главным государственным инспектором по маломерным судам</li> <li>• Государственным инспектором по маломерным судам</li> <li>• Прокурором</li> <li>• Судьей</li> </ul>

МП.1.3.13	Какое административное наказание предусмотрено за превышение установленной скорости?		<ul style="list-style-type: none"><li>• Лишение права управления</li><li>• Предупреждение</li><li>• Штраф</li><li>• Предупреждение или штраф, или лишение права управления</li></ul>
МП.1.3.14	Какое административное наказание предусматривается за нарушение правил маневрирования?		<ul style="list-style-type: none"><li>• Административный штраф</li><li>• Лишение прав управления маломерным судном</li><li>• Предупреждение</li><li>• Одно из перечисленных</li></ul>
МП.1.3.15	Какое административное наказание предусмотрено за управление маломерным судном, не несущим бортовых номеров?		<ul style="list-style-type: none"><li>• Лишение права управления</li><li>• Предупреждение или штраф</li><li>• Предупреждение или штраф, или лишение права управления</li><li>• Штраф</li></ul>




<p>МП.1.3.16</p>	<p>Какое административное наказание предусмотрено за преднамеренную остановку маломерного судна в запрещенном месте?</p>		<ul style="list-style-type: none"> <li>• Лишение права управления</li> <li>• Предупреждение</li> <li>• Штраф</li> <li>• Предупреждение или штраф, или лишение права управления</li> </ul>
<p>МП.1.3.17</p>	<p>При совершении административного правонарушения, влекущего задержание маломерного судна, оно задерживается на время:</p>		<ul style="list-style-type: none"> <li>• До составления протокола об административном правонарушении</li> <li>• До вынесения постановления по делу об административном правонарушении</li> <li>• До исполнения постановления по делу об административном правонарушении</li> <li>• До устранения причины задержания</li> </ul>
<p>МП.1.3.18</p>	<p>Какое административное наказание предусмотрено за передачу управления маломерным судном лицу, не имеющему на это права?</p>		<ul style="list-style-type: none"> <li>• Лишение права управления</li> <li>• Предупреждение</li> <li>• Предупреждение или штраф</li> <li>• Штраф</li> </ul>


<p>МП.1.3.19</p>	<p>Какое административное наказание предусмотрено за управление маломерным судном с нарушением ограничений по району плавания?</p>		<ul style="list-style-type: none"> <li>• Предупреждение</li> <li>• Предупреждение или штраф, или лишение права управления</li> <li>• Штраф или лишение права управления</li> <li>• Штраф</li> </ul>
<p>МП.1.3.20</p>	<p>Какое административное наказание предусмотрено за несоблюдение лицом, управляющим маломерным судном, установленной скорости?</p>		<ul style="list-style-type: none"> <li>• Административный штраф</li> <li>• Предупреждение</li> <li>• Предупреждение либо административный штраф</li> <li>• Предупреждение, либо административный штраф, либо лишение права управления маломерным судном на срок до шести месяцев</li> </ul>
<p>МП.1.3.21</p>	<p>Какой срок отводится Кодексом Российской Федерации об административных правонарушениях для уплаты административного штрафа?</p>		<ul style="list-style-type: none"> <li>• 10 суток</li> <li>• 20 суток</li> <li>• 40 суток</li> <li>• 60 суток</li> </ul>

<p>МП.1.3.22</p>	<p>Какое административное наказание предусмотрено за управление маломерным судном с нарушением ограничений по условиям плавания?</p>		<ul style="list-style-type: none"> <li>• Лишение права управления</li> <li>• Предупреждение или штраф</li> <li>• Предупреждение или штраф, или лишение права управления</li> <li>• Штраф</li> </ul>
<p>МП.1.3.23</p>	<p>Какое административное наказание предусмотрено за управление маломерным судном, не прошедшим технического освидетельствования?</p>		<ul style="list-style-type: none"> <li>• Лишение права управления</li> <li>• Предупреждение</li> <li>• Предупреждение или штраф, или лишение права управления</li> <li>• Штраф</li> </ul>
<p>МП.1.3.24</p>	<p>Какое административное наказание предусмотрено за преднамеренную остановку или стоянку маломерного судна под судоходным пролетом моста?</p>		<ul style="list-style-type: none"> <li>• Наказание не предусмотрено</li> <li>• Предупреждение или штраф</li> <li>• Штраф</li> <li>• Предупреждение или штраф, или лишение права управления</li> </ul>

<p>МП.1.3.25</p>	<p>Какое административное наказание предусматривается за несоблюдение лицом, управляющим маломерным судном, требований навигационных знаков?</p>		<ul style="list-style-type: none"> <li>• Административный штраф</li> <li>• Лишение права управления маломерным судном</li> <li>• Предупреждение</li> <li>• Одно из вышеперечисленных</li> </ul>
<p>МП.1.3.26</p>	<p>В течение какого времени судоводитель имеет право обжаловать постановление по делу об административном правонарушении со дня получения копии постановления?</p>		<ul style="list-style-type: none"> <li>• Двух недель</li> <li>• Одного месяца</li> <li>• Пяти дней</li> <li>• Десяти дней</li> </ul>
<p>МП.1.3.27</p>	<p>За какое из перечисленных нарушений государственный инспектор по маломерным судам имеет право задержать маломерное судно и поместить его на специализированную стоянку для хранения?</p>		<ul style="list-style-type: none"> <li>• За нарушение правил маневрирования</li> <li>• За превышение установленной скорости</li> <li>• За передачу управления судном лицу, не имеющему права управления</li> <li>• За управление судном в состоянии опьянения</li> </ul>









<p>МП.1.3.28</p>	<p>За какое из перечисленных нарушений государственный инспектор по маломерным судам имеет право отстранить судоводителя от управления и поместить маломерное судно на стоянку и хранение?</p>		<ul style="list-style-type: none"> <li>• За нарушение правил погрузки и разгрузки маломерных судов</li> <li>• За управление судном, не прошедшим технического освидетельствования</li> <li>• За нарушение правил обеспечения безопасности пассажиров в пути следования</li> <li>• За управление маломерным судном без удостоверения на право управления, судового билета или его копии, заверенной в установленном порядке</li> </ul>
<p>МП.1.3.29</p>	<p>Какое административное наказание предусмотрено за эксплуатацию маломерного судна, у которого содержание загрязняющих веществ в выбросах превышает установленные государственными стандартами нормативы?</p>		<ul style="list-style-type: none"> <li>• Наказания не предусмотрено</li> <li>• Лишение права управления</li> <li>• Предупреждение или штраф</li> <li>• Штраф</li> </ul>
<p>МП.1.3.30</p>	<p>Какое административное наказание предусмотрено за утерю или утрату судового билета маломерного судна?</p>		<ul style="list-style-type: none"> <li>• Предупреждение</li> <li>• Предупреждение или штраф</li> <li>• Штраф</li> <li>• Наказание не предусмотрено</li> </ul>




<p>МП.1.3.31</p>	<p>Какое административное наказание предусмотрено за преднамеренную остановку или стоянку судна в запрещенных местах?</p>		<ul style="list-style-type: none"> <li>• Административный штраф</li> <li>• Предупреждение</li> <li>• Предупреждение либо административный штраф</li> <li>• Предупреждение, либо административный штраф, либо лишение права управления маломерным судном на срок до шести месяцев</li> </ul>
<p>МП.1.3.32</p>	<p>Какое административное наказание предусмотрено за утерю или утрату удостоверения на право управления маломерным судном?</p>		<ul style="list-style-type: none"> <li>• Предупреждение</li> <li>• Предупреждение или штраф</li> <li>• Штраф</li> <li>• Наказание не предусмотрено</li> </ul>
<p>МП.1.3.33</p>	<p>Какое административное наказание предусматривается за управление маломерным судном, не зарегистрированным в установленном порядке?</p>		<ul style="list-style-type: none"> <li>• Предупреждение</li> <li>• Предупреждение либо административный штраф</li> <li>• Предупреждение, либо административный штраф, либо лишение права управления маломерным судном</li> <li>• Административный штраф</li> </ul>




<p>МП.1.3.34</p>	<p>Какое административное наказание предусмотрено за управление судном судоводителем или иным лицом, находящимся в состоянии опьянения?</p>		<ul style="list-style-type: none"> <li>• Лишение права управления маломерным судном</li> <li>• Предупреждение</li> <li>• Штраф</li> <li>• Штраф или лишение прав управления маломерным судном</li> </ul>
<p>МП.1.3.35</p>	<p>Какое административное наказание предусмотрено за передачу управления маломерным судном лицу, не имеющему при себе удостоверения на право управления маломерным судном?</p>		<ul style="list-style-type: none"> <li>• Наказание не предусмотрено</li> <li>• Предупреждение</li> <li>• Штраф</li> <li>• Предупреждение или штраф</li> </ul>
<p>МП.1.3.36</p>	<p>Какое административное наказание предусмотрено за управление маломерным судном судоводителю, не имеющему при себе судового билета маломерного судна или его копии, заверенной в установленном порядке, а равно документов, подтверждающих право владения, пользования или распоряжения управляемым им судном в отсутствие владельца?</p>		<ul style="list-style-type: none"> <li>• Наказание не предусмотрено</li> <li>• Предупреждение</li> <li>• Штраф</li> <li>• Предупреждение или штраф</li> </ul>

**МП.1.4. Вопросы эксплуатации маломерных судов и управления ими**

№	Вопрос	Иллюстрация	Варианты ответа (правильный выделен)
МП.1.4.1	При каком условии можно перевозить на маломерном судне детей дошкольного возраста?		<ul style="list-style-type: none"> <li>• В сопровождении взрослого, не связанного с управлением гидроцикла</li> <li>• При наличии одетого на ребенка спасательного жилета</li> <li>• Если ребенок умеет плавать</li> <li>• Нельзя ни при каких условиях</li> </ul>
МП.1.4.2	При каком условии маломерному судну можно заходить и маневрировать на акватории пляжей?		<ul style="list-style-type: none"> <li>• Только на самом малом ходу</li> <li>• Только для высадки на берег пассажиров</li> <li>• Если в непосредственной близости от судна нет купающихся людей</li> <li>• Ни при каких условиях</li> </ul>
МП.1.4.3	Кто допускается к управлению маломерным судном?		<ul style="list-style-type: none"> <li>• Лицо, имеющее действительный диплом на право занятия судоводительской должности</li> <li>• Лицо, имеющее справку об окончании курсов подготовки судоводителей маломерных судов</li> <li>• Любой совершеннолетний гражданин Российской Федерации</li> <li>• Лицо, имеющее действующее удостоверение на право управления маломерным судном</li> </ul>




<p>МП.1.4.4</p>	<p>Какой из маневров на моторной лодке "А" является наиболее эффективным, чтобы уступить дорогу катеру "Б"?</p>		<ul style="list-style-type: none"> <li>• Сделать оборот через левый борт</li> <li>• Повернуть влево на 10 град</li> <li>• Повернуть вправо на 10 град</li> <li>• Уменьшить скорость и повернуть под корму катера "Б"</li> </ul>
<p>МП.1.4.5</p>	<p>Какому из маломерных судов должно уступить дорогу маломерное судно "А"?</p>		<ul style="list-style-type: none"> <li>• В</li> <li>• Обоим судам</li> <li>• Ни одному из судов</li> <li>• Б</li> </ul>
<p>МП.1.4.6</p>	<p>Какому из маломерных судов должно уступить дорогу маломерное судно "Б"?</p>		<ul style="list-style-type: none"> <li>• Б</li> <li>• А и В</li> <li>• Никакому</li> <li>• В</li> </ul>




<p>МП.1.4.7</p>	<p>В каких случаях моторное маломерное судно должно уступить дорогу гребной лодке?</p>		<ul style="list-style-type: none"> <li>• Если гребная лодка находится слева</li> <li>• Если гребная лодка находится справа</li> <li>• Если гребная лодка находится по курсу</li> <li>• Во всех случаях</li> </ul>
<p>МП.1.4.8</p>	<p>Какие действия должен предпринять судоводитель маломерного судна "А" для безопасного расхождения?</p>		<ul style="list-style-type: none"> <li>• Застопорить ход и остановиться</li> <li>• Изменить курс влево</li> <li>• Следовать прежним курсом</li> <li>• Изменить курс вправо</li> </ul>
<p>МП.1.4.9</p>	<p>Какие действия должны предпринять судоводители маломерных моторных судов "А" и "Б" для безопасного расхождения при встречном движении (плавании)?</p>		<ul style="list-style-type: none"> <li>• Должны изменить курс влево</li> <li>• "А" должен повернуть вправо, а "Б" - влево</li> <li>• "А" должен повернуть влево, а "Б" - вправо</li> <li>• Должны изменить курс вправо</li> </ul>

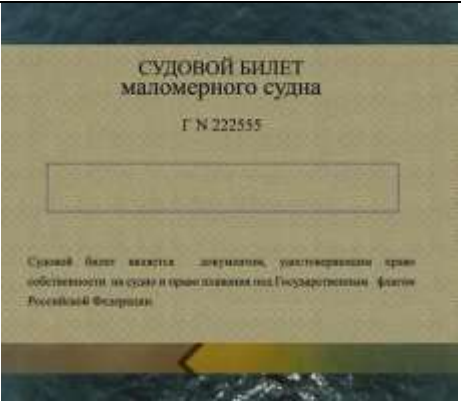


<p>МП.1.4.10</p>	<p>Как должны расходиться изображенные на иллюстрации суда?</p>		<ul style="list-style-type: none"> <li>• Катер "А" должен уступить дорогу "Б"</li> <li>• Парусно-моторное судно "Б" должно уступить дорогу "А"</li> <li>• Правыми бортами</li> <li>• Левыми бортами</li> </ul>
<p>МП.1.4.11</p>	<p>В каком из перечисленных случаев маломерному судну разрешается маневрировать на акватории пляжа?</p>		<ul style="list-style-type: none"> <li>• Только на самом малом ходу</li> <li>• Только с принятием всех необходимых мер предосторожности</li> <li>• Если в непосредственной близости от судна нет купающихся людей</li> <li>• Ни в одном из перечисленных случаев не разрешается</li> </ul>
<p>МП.1.4.12</p>	<p>В чьи обязанности входит проведение инструктажа пассажиров по правилам поведения на маломерном судне во время плавания?</p>		<ul style="list-style-type: none"> <li>• Государственного инспектора по маломерным судам</li> <li>• Должностного лица базы (сооружения) для стоянки маломерных судов</li> <li>• Судовладельца</li> <li>• Судоводителя</li> </ul>

<p>МП.1.4.13</p>	<p>Какие документы во время плавания должен иметь при себе судоводитель моторного маломерного судна, если он сам управляет этим судном?</p>		<ul style="list-style-type: none"> <li>• Удостоверение на право управления</li> <li>• Акт технического освидетельствования</li> <li>• Судовой билет (или его копию)</li> <li>• Судовой билет (или его заверенную копию) и удостоверение на право управления</li> </ul>
<p>МП.1.4.14</p>	<p>Какие документы во время плавания должен иметь при себе судоводитель маломерного судна, если он не является владельцем этого судна?</p>		<ul style="list-style-type: none"> <li>• Удостоверение на право управления и акт технического освидетельствования</li> <li>• Судовой билет и документ на право пользования судном</li> <li>• Судовой билет (или его копию) и удостоверение на право управления</li> <li>• Судовой билет (или его заверенную копию), удостоверение на право управления и документ на право пользования судном</li> </ul>
<p>МП.1.4.15</p>	<p>При каких условиях разрешается пересадка людей с одного судна на другое во время движения?</p>		<ul style="list-style-type: none"> <li>• При отсутствии ветра и волнения</li> <li>• При отсутствии ветра и волнения с обязательно надетым на пересаживаемого человека спасательным жилетом</li> <li>• Если по условиям плавания нет возможности остановить суда</li> <li>• Пересадка во время движения запрещена во всех случаях</li> </ul>



<p>МП.1.4.16</p>	<p>При наличии какой из перечисленных неисправностей пользование маломерным судном запрещается?</p>		<ul style="list-style-type: none"> <li>• Наличие вибрации</li> <li>• Наличие утечек топлива</li> <li>• Повреждение системы дистанционного управления двигателем</li> <li>• При любой из перечисленных</li> </ul>
<p>МП.1.4.17</p>	<p>При наличии какой из перечисленных неисправностей пользование маломерным судном запрещается?</p>		<ul style="list-style-type: none"> <li>• Ненадежное крепление кнехтов</li> <li>• При любой из перечисленных</li> <li>• Отсутствие или неисправность ленточного или винтового стопора для удержания якорной цепи</li> <li>• Разгерметизация гермоотсеков или воздушных ящиков</li> </ul>
<p>МП.1.4.18</p>	<p>При наличии какой из перечисленных неисправностей пользование маломерным судном запрещается?</p>		<ul style="list-style-type: none"> <li>• Наличие вибрации</li> <li>• Разгерметизация воздушных ящиков</li> <li>• Несоответствие нормам комплектации и оборудования судна, указанным в судовом билете</li> <li>• При любой из перечисленных</li> </ul>

<p>МП.1.4.19</p>	<p>При наличии какой из перечисленных неисправностей пользование маломерным судном запрещается?</p>		<ul style="list-style-type: none"> <li>• Повреждение леерного ограждения</li> <li>• При любой из перечисленных</li> <li>• Отсутствие или неисправность ленточного или винтового стопора для удержания якорной цепи</li> <li>• Неисправность отличительных (бортовых) огней</li> </ul>
<p>МП.1.4.20</p>	<p>При наличии какой из перечисленных неисправностей пользование маломерным судном запрещается?</p>		<ul style="list-style-type: none"> <li>• ненадежное крепление планширя</li> <li>• При любой из перечисленных</li> <li>• Отсутствие или неисправность штормовых портиков в фальшборте</li> <li>• Отсутствие или неисправность глушителя</li> </ul>
<p>МП.1.4.21</p>	<p>При наличии какой из перечисленных неисправностей пользование маломерным судном запрещается?</p>		<ul style="list-style-type: none"> <li>• Наличие сквозных пробоин корпуса судна выше ватерлинии</li> <li>• Несоответствие отличительных (бортовых) огней установленным требованиям</li> <li>• Неисправность блокировки запуска двигателя (мотора) при включении реверса</li> <li>• При любой из перечисленных</li> </ul>

<p>МП.1.4.22</p>	<p>Какой орган может отменить право собственности на маломерное судно, зарегистрированное в судовой книге?</p>		<ul style="list-style-type: none"> <li>• Прокуратура</li> <li>• Прокуратура или суд</li> <li>• Вышестоящий орган ГИМС</li> <li>• Суд</li> </ul>
<p>МП.1.4.23</p>	<p>В течение какого срока действует удостоверение на право управления маломерным судном с момента его выдачи?</p>		<ul style="list-style-type: none"> <li>• 5 лет</li> <li>• 15 лет</li> <li>• Бессрочно</li> <li>• 10 лет</li> </ul>
<p>МП.1.4.24</p>	<p>Как должно осуществляться маневрирование маломерных судов при расхождении на водных объектах, не имеющих навигационной обстановки?</p>		<ul style="list-style-type: none"> <li>• С учетом направления течения</li> <li>• С учетом левостороннего движения</li> <li>• Порядок расхождения не установлен</li> <li>• С учетом правостороннего движения</li> </ul>

МП.1.4.25

Какие из перечисленных документов судоводители маломерных судов обязаны предъявлять для проверки государственному инспектору по маломерным судам?



- Удостоверение на право управления
- Документ на право пользования судном при отсутствии на борту собственника или владельца судна
- Судовой билет или его заверенную копию
- Все перечисленные